

PDF Compressor Free Version



Grand prof de Maths

Cours de Tle A

Édition : août 2018

CHAPITRE : NOMBRES

PDF Compressor Free Version

Objectifs pédagogiques :

- Opérer dans \mathbb{R} .
- Calculer avec des valeurs absolues.
- Traduire des inégalités sous forme d'intervalles.
- Donner une valeur approchée d'un nombre réel.

LECON 1 : CALCULS NUMERIQUES

I- OPERATIONS DANS \mathbb{R}

1- Critères de divisibilité d'un entier par 2 ; 3 ; 5 et 9.

Activité :

Soit la liste des nombres suivants : 2130 ; 2018 ; 207 ; 6775 ; 297 et 2001.

Relève de cette liste les nombres divisibles par 2 ; 3 ; 5 et 9.

Critères de divisibilité :

- Un nombre est divisible par 2 lorsque son chiffre des unités est pair.
- Un nombre est divisible par 3 (respectivement par 9) lorsque la somme de ses chiffres est divisible par 3 (respectivement par 9).
- Un nombre est divisible par 5 lorsque son chiffre des unités est 0 ou 5.

Exemple : trouve la fraction irréductible égale à la fraction $\frac{1488}{2418}$

2- opérations sur les quotients

soient a, b, c et d quatre nombres quelconques avec $b \neq 0$ et $d \neq 0$.

$$\frac{a}{b} + \frac{c}{d} = \frac{ad + bc}{bd}$$

$$\frac{a}{b} - \frac{c}{d} = \frac{ad - bc}{bd}$$

$$\frac{a}{b} \times \frac{c}{d} = \frac{ac}{bd}$$

$$\frac{\frac{a}{b}}{\frac{c}{d}} = \frac{a}{b} \times \frac{d}{c} \text{ (avec } c \neq 0)$$

Règle de priorité :

- la multiplication est prioritaire sur l'addition et la soustraction.
- L'addition et la soustraction sont d'égale priorité.

- La multiplication et la division sont d'égale priorité (pour une expression comportant la multiplication et la division, effectuer les opérations de la gauche vers la droite).
- La détermination du contenu des parenthèses est prioritaire sur la multiplication.

Exemple : effectuer les opérations suivantes et donner les résultats sous forme de fractions irréductibles :

$$A = \frac{5}{3} \div \left(\frac{3}{2} - 1 \right) ; \quad B = \left(1 - \frac{1}{3} - \frac{1}{4} \right) \times \frac{2}{5} ; \quad C = 2 \times \frac{3}{4} \div \frac{1}{5} + \frac{-7}{6} \div \frac{1}{9}$$

3- Puissances entières d'un nombre réel

On appelle puissance n-ième d'un nombre réel a le réel noté a^n où n est un entier naturel non nul et définit par :

$$a^n = a \times a \times \dots \times a \text{ (n fois)}. \text{ si } a \neq 0, a^0 = 1 \text{ et } a^{-n} = \frac{1}{a^n}.$$

Propriétés : soient a et b deux réels quelconques ; m et n deux entiers relatifs non nuls.

On a :

$$a^m \times a^n = a^{m+n}$$

$$(a \times b)^n = a^n \times b^n$$

$$(a^n)^m = a^{n \times m}$$

$$\frac{a^m}{a^n} = a^{m-n} (a \neq 0)$$

$$\left(\frac{a}{b} \right)^n = \frac{a^n}{b^n} (b \neq 0)$$

$$(-a)^n = \begin{cases} a^n & \text{si } n \text{ est pair} \\ -a^n & \text{si } n \text{ est impair} \end{cases}$$

Exemple: compléter les pointillés

$$a) 3^2 \times 3^{-3} = \dots \dots \dots$$

$$b) \frac{8^7}{(8^2)^3} = (8) \dots \dots \dots$$

$$c) (-7)^3 = \dots \dots \dots$$

$$d) 64 = 2 \dots \dots \dots$$

4- Notation scientifique

Un nombre décimal x est écrit en notation scientifique (ou écriture normalisée) lorsqu'il est sous la forme $x = a \times 10^p$ où a est un nombre décimal ayant un seul chiffre non nul avant la virgule et p un entier relatif.

Exemple : écrire les nombres suivants en notation scientifique :

PDF Compressor Free Version

a) 40000

b) $0,006 \times 0,04$

c) $35,24 \times 10^{-4}$

II- RACINES CARREES

Activité :

1- Ecrire sous la forme $a\sqrt{b}$, a et b sont des entiers et b le plus petit possible :

$$A = 3\sqrt{3} + 2\sqrt{12} - 2\sqrt{75}$$

$$B = 2\sqrt{3} - \sqrt{300} + 7\sqrt{12}$$

$$C = 4\sqrt{45} + 3\sqrt{125} - \sqrt{80}$$

2- Calculer $A - C$, $B + C$ et $(A - C)^2$

Propriétés : soient a et b deux réels positifs , m et n deux entiers naturels quelconques .

➤ \sqrt{a} est le nombre réel positif dont le carré est a .

➤ $\sqrt{a^2} = a$

➤ $\sqrt{a} \times \sqrt{b} = \sqrt{ab}$

➤ $\frac{\sqrt{a}}{\sqrt{b}} = \sqrt{\frac{a}{b}}$ si $b \neq 0$

➤ $\sqrt{a^{2n}} = a^n$

➤ $\sqrt{a^{2n+1}} = a^n\sqrt{a}$

➤ $m\sqrt{a} \times n\sqrt{b} = (m \times n)\sqrt{a \times b}$

➤ $m\sqrt{a} + n\sqrt{a} = (m + n)\sqrt{a}$

Exemple :

1- développer et réduire : $(2\sqrt{3} - 6)(\sqrt{2} + \sqrt{3})$; $(\sqrt{7} + \sqrt{3})^2$

2- compare 6 et $2\sqrt{7}$.

LECON 2 : INTERVALLES- VALEURS ABSOLUES-VALEURS APPROCHEES

PDF Compressor Free Version

1- troncature

la troncature est un terme utilisé pour couper le développement décimal d'un nombre à un certain nombre de chiffres après la virgule. La troncature à l'unité d'un nombre décimal positif est sa partie entière.

Exemple : soit le nombre $\frac{13}{7} = 1,857142857 \dots$. sa troncature d'ordre 3 est 1,857 ; sa troncature d'ordre 6 est 1,857142 ; sa troncature à l'unité est 1.

2- Arrondi

Faire l'arrondi à l'unité, au dixième, au centième d'un nombre décimal, c'est couper au rang indiqué puis :

- Si le chiffre qui suit est inférieur à 5, on garde le nombre coupé ;
- Si le chiffre qui suit est supérieur ou égal à 5, on augmente de 1 le dernier chiffre du nombre coupé.

Exemple : l'arrondi à l'unité du nombre 47,5 est 48 ; l'arrondi au centième de 78,6312 est 78,63

3- Approximation décimale ou valeur approchée

On distingue deux types d'approximation (valeurs approchées) qui sont : l'approximation par défaut et l'approximation par excès.

- La valeur approchée par défaut d'un nombre décimal à un rang est la troncature de ce nombre au rang indiqué.
- La valeur approchée par excès d'un nombre décimal à un rang est le nombre décimal dont le dernier chiffre au rang indiqué est augmenté de 1.

Exemple : en considérant toujours la fraction $\frac{13}{7} = 1,857142857 \dots$, son approximation décimale d'ordre 4 :

- Par défaut est : 1,8571
- Par excès est : 1,8572

Et on obtient ainsi un encadrement de $\frac{13}{7}$ par deux nombres décimaux consécutifs à l'ordre 4 : $1,8571 \leq \frac{13}{7} \leq 1,8572$

4- Intervalles

a) Intervalles bornés

Les quatre formes d'intervalles bornés sont : $[a; b[$, $]a; b]$, $]a; b[$ et $[[a; b]$. a et b sont appelés les bornes de l'intervalle. Le nombre réel $\frac{a+b}{2}$ est le centre de l'intervalle et le réel $b - a$ est son amplitude.

Exemple : recopie et complète le tableau suivant :

PDF Compressor Free Version

Appartenance de x à un intervalle	inégalités Vérifiées par x	Partie contenant le point d'abscisse x	centre
$x \in]6; 7[$	$6 < x < 7$		$\frac{6+7}{2} = 6,5$
	$-2 \leq x \leq 3$		
$x \in]3; 8]$			

b) Intersection et réunion des intervalles

Soient I et J deux intervalles :

- L'intersection de I et J noté $I \cap J$ est l'ensemble des éléments qui sont à la fois dans I et dans J .

$$(x \in I \cap J) \text{ équivaut à } (x \in I \text{ et } x \in J)$$

$I \cap J$ se lit « I inter J ».

- l'ensemble des éléments qui appartiennent à I ou à J est appelé réunion de I et J et noté $I \cup J$.

$$(x \in I \cup J) \text{ équivaut à } (x \in I \text{ ou } x \in J)$$

$I \cup J$ se lit « I union J ».

Exemple : on donne $I =]-6; -4]$; $J = [-4; 3[$ et $A =]0; 2[$

Déterminer $I \cup J$; $I \cap J$; $I \cup A$ et $J \cap A$.

5- Valeurs absolues

La valeur absolue du nombre réel a noté $|a|$ est la distance du point d'abscisse 0 au point d'abscisse a sur une droite graduée.

$$|a| = \begin{cases} -a & \text{si } a < 0 \\ 0 & \text{si } a = 0 \\ a & \text{si } a > 0 \end{cases}$$

Propriétés :

- $|-a| = |a|$
- $|a - b| = |b - a|$
- $|a| \times |b| = |ab|$
- $\left| \frac{a}{b} \right| = \frac{|a|}{|b|}$, $b \neq 0$
- $|a + b| \leq |a| + |b|$
- $|a| = |b|$ équivaut à $\begin{cases} a = b \\ \text{ou} \\ a = -b \end{cases}$ équivaut à $a^2 = b^2$
- $|a| < r$ équivaut à $-r < a < r$
- $|a| > r$ équivaut à $a > r$ ou $a < -r$
- Soit a un réel : $\sqrt{a^2} = |a|$

Exemple :

1- Résoudre dans \mathbb{R} les équations et inéquations suivantes ;

PDF Compressor Free Version

a) $|3x - 1| = 5$

b) $|x - 3| = -6$

c) $|-2x + 1| = |3x + 3|$

d) $|4x + 3| < -3$

e) $|2x - 7| < 1$

f) $|2x - 7| > 1$

2- Compare 3 et $2\sqrt{3}$ et en déduire le signe de $3 - 2\sqrt{3}$.

3- Ecrire $|3 - 2\sqrt{3}|$ sans symbole de valeurs absolues.

I. ~~PDF Compressor Free Version~~ Equations et inéquations de premier degrés dans \mathbb{R}

Activité. Résoudre dans \mathbb{R} les équations et inéquations suivantes :

- a) $2x + 1 = 0$; b) $2x - 1 > 0$; c) $\frac{x + 1}{x - 1} = 0$; d) $\frac{2x + 1}{x + 1} < 0$.

1. Équations du type $\frac{ax + b}{cx + d}$ et $(ax + b)(cx + d)$

* Pour résoudre une équation pouvant se mettre sous la forme $\frac{ax + b}{cx + d} = 0$, on donne d'abord la **condition d'existence en posant** $cx + d \neq 0$, puis on **résous l'équation** $ax + b = 0$.

* Pour résoudre une équation pouvant se mettre sous la forme $(ax + b)(cx + d) = 0$, on résous les équations $ax + b = 0$ et $cx + d = 0$.

Exemple. (E) : $\frac{2x + 1}{x - 1} = 0$

(E) existe ssi $x - 1 \neq 0$ i.e. $x \neq 1$.

pour $x \neq 1$, on a : $2x + 1 = 0 \Rightarrow 2x = -1 \Rightarrow x = -\frac{1}{2}$. Comme $-\frac{1}{2} \neq 1$, alors $S = \{-\frac{1}{2}\}$

(E') : $x^2 - 4 = 0$. $x^2 - 4 = 0 \Leftrightarrow (x - 2)(x + 2) = 0 \Leftrightarrow x - 2 = 0$ ou $x + 2 = 0 \Leftrightarrow x = 2$ ou $x = -2$. $S = \{-2; 2\}$

Exercice d'application. Résoudre dans \mathbb{R} les équations suivantes :

- a) $\frac{3x + 1}{x + 1} = 1$; b) $(2x + 1)(x - 1) = 0$; c) $(x + 1)^2 - 2 = 0$

2. Inéquations du type $\frac{ax + b}{cx + d}$ et $(ax + b)(cx + d)$

2.1 Signe de la fonction $x \mapsto ax + b$

Pour étudier, suivant les valeurs de x , le signe de l'expression $ax + b$, on peut se servir du "tableau de signe" suivant

x	$-\infty$	$-\frac{b}{a}$	$+\infty$
$ax + b$	signe de (-a)	0	signe de a

2.2 Résolution

Pour résoudre une équation pouvant se mettre sous la forme $\frac{ax + b}{cx + d} < 0$ ou sous la forme

$(ax + b)(cx + d) < 0$, on fait le tableau de signe de la fonction $f(x) = \frac{ax + b}{cx + d}$ et tenant compte de la condition d'existence ou $f(x) = (ax + b)(cx + d)$ puis on choisit la solution correspondant au signe de l'inéquation.

Exemple : Résoudre dans \mathbb{R} les inéquations : $\frac{x-2}{x+1} > 0$ et $(x-1)(2x+1) \leq 0$.

PDF Compressor Free Version				
$x-2$	-		-	+
$x+1$	-		+	+
$\frac{x-2}{x+1}$	+		-	+

$$S =]-\infty, -1[\cup]2, +\infty[$$

x	$-\infty$	$-\frac{1}{2}$	1	$+\infty$
$x-1$	-		-	+
$2x+1$	-		+	+
$(x-1)(2x+1)$	+		-	+

$$S = [-\frac{1}{2}; 1]$$

Exercice d'application. Résoudre dans \mathbb{R} les inéquations suivantes :

a) $\frac{3x+1}{x+1} \leq 1$; b) $(2x+1)(x-1) < 0$; c) $(x+1)^2 - 2 \geq 0$; d) $\frac{2x}{x+2} - \frac{4}{x+2} < 1$.

II. Équations et inéquations de second degré dans \mathbb{R}

Activité : Résoudre dans \mathbb{R} les équations et inéquations suivantes.

a) $x^2 + 2x + 1 = 0$; b) $2x^2 - 2x + 2 = 0$; c) $x^2 - 7x + 12 > 0$

1. Définitions

- On appelle polynôme de second degré dans \mathbb{R} , toute expression sous la forme $p(x) = ax^2 + bx + c$; a, b, c des réels avec $a \neq 0$.
- On appelle équation de second degré à coefficient dans \mathbb{R} toute équation qui peut se mettre sous la forme : $ax^2 + bx + c = 0$; où a, b, c sont des réels avec $a \neq 0$ et x l'inconnu.
- On appelle inéquation du second degré à coefficient dans \mathbb{R} toute inéquation qui peut se mettre sous la forme : $ax^2 + bx + c > 0$; où a, b, c sont des réels avec $a \neq 0$ et x l'inconnu. ($>$ peut être remplacé par $<$; \leq ou \geq).

2. Racines, factorisation et signe d'un polynôme de second degré

Soit $f(x) = ax^2 + bx + c$, ($a \neq 0$) un trinôme du second degré. Nous donnons dans le tableau suivant les résultats sur les racines (équation $ax^2 + bx + c = 0$), la factorisation et le signe de $f(x)$.

suivant la valeur du discriminant $\Delta = b^2 - 4ac$, trois cas peuvent se présenter.

3. Résolutions

- Résoudre une équation $ax^2 + bx + c = 0$ revient à trouver les racines du polynôme $p(x) = x^2 + bx + c$
- Résoudre une inéquation $ax^2 + bx + c > 0$ revient à étudier le signe du polynôme $p(x) = x^2 + bx + c$.

	$\Delta > 0$	$\Delta = 0$	$\Delta < 0$											
racines de f (equation $a x^2 + b x + c = 0$)	deux racines distinctes x_1 et x_2 tels que : $x_1 = \frac{-b - \sqrt{\Delta}}{2a}$ $x_2 = \frac{-b + \sqrt{\Delta}}{2a}$	une racine double $x_0 = -\frac{b}{2a}$	Pas de racine											
Factorisation	$f(x) = a(x - x_1)(x - x_2)$	$f(x) = a(x - x_0)^2$	Pas de factorisation											
Signe de $f(x)$	<table border="1" style="display: inline-table; vertical-align: middle;"> <tr> <td>x</td> <td>$-\infty$</td> <td>x_1</td> <td>x_2</td> <td>$+\infty$</td> </tr> <tr> <td>f(x)</td> <td>signe de a</td> <td>○</td> <td>Signe de -a</td> <td>○</td> <td>signe de a</td> </tr> </table>	x	$-\infty$	x_1	x_2	$+\infty$	f(x)	signe de a	○	Signe de -a	○	signe de a	f(x) est du signe de a	f(x) est du signe de a
x	$-\infty$	x_1	x_2	$+\infty$										
f(x)	signe de a	○	Signe de -a	○	signe de a									

Exemple : Résoudre dans \mathbb{R} : a) $x^2 - 5x + 6 = 0$ et $x^2 - 5x + 6 < 0$.

a) $x^2 - 5x + 6 = 0$: $\Delta = b^2 - 4ac = (-5)^2 - 4(1)(6) = 25 - 24 = 1$.

Comme $\Delta > 0$, l'équation admet deux solutions : $x_1 = \frac{-b - \sqrt{\Delta}}{2a} = \frac{5 - 1}{2} = 2$ et $x_2 = \frac{-b + \sqrt{\Delta}}{2a} = \frac{5 + 1}{2} = 3$.

$S = \{2; 3\}$.

b) $x^2 - 5x + 6 < 0$: Le polynôme $p(x) = x^2 - 5x + 6$ admet deux racine $x_1 = 2$ et $x_2 = 3$.

Tableau de signe

x	$-\infty$	2	3	$+\infty$
$x^2 - 5x + 6$	+	-	-	+

$S =]2; 3[$.

Exercice d'application. Résoudre dans \mathbb{R} les équations et inéquations suivantes :

a) $2x^2 + 5x = 0$; b) $x^2 + x + 2 = 0$; c) $2x^2 + 5x \leq 0$; d) $x^2 - 2x + 1 \geq 0$; e) $4x^2 - 16 > 0$; f) $-x^2 + x - 1 = 0$.

III. Systèmes linéaires dans \mathbb{R}^2 et dans \mathbb{R}^3 .

1. Systèmes linéaires dans \mathbb{R}^2

Activité : Résoudre dans \mathbb{R}^2 le système : $\begin{cases} 2x + 3y = 5 \\ 3x + 2y = 5 \end{cases}$

Résolution par la méthode de Cramer.

Pour résoudre un système sous la forme $\begin{cases} ax + by = c \\ a'x + b'y = c' \end{cases}$ On peut :

- Calculer le discriminant du système : $\Delta = \begin{vmatrix} a & b \\ a' & b' \end{vmatrix} = ab' - a'b$

- Calculer le discriminant suivant $x : \Delta_x = \begin{vmatrix} c & b \\ c' & b' \end{vmatrix} = cb' - c'b$ et le discriminant suivant

$$y : \Delta_y = \begin{vmatrix} a & c \\ a' & c' \end{vmatrix} = ac' - a'c$$

- a) Si $\Delta \neq 0$, alors le système admet une unique solution donnée par $x = \frac{\Delta_x}{\Delta}$ et $y = \frac{\Delta_y}{\Delta}$ et donc $S = \{(x, y)\}$.
- b) Si $\Delta = 0$ et ($\Delta_x \neq 0$ ou $\Delta_y \neq 0$) alors le système n'admet pas de solution ; donc $S = \emptyset$.
- c) Si $\Delta = 0$ et $\Delta_x = 0$ et $\Delta_y = 0$ alors le système admet une infinité de solution. $S = \{(x, y) \in \mathbb{R}^2 : ax + by = c\}$.

Exemple : Résoudre dans \mathbb{R}^2 le système :
$$\begin{cases} x + 3y = 5 \\ 3x + y = 7 \end{cases}$$

On a : $\Delta = \begin{vmatrix} 1 & 3 \\ 3 & 1 \end{vmatrix} = 1 - 9 = -8 \neq 0$. $\Delta_x = \begin{vmatrix} 5 & 3 \\ 7 & 1 \end{vmatrix} = 5 - 21 = -16$;

$$\Delta_y = \begin{vmatrix} 1 & 5 \\ 3 & 7 \end{vmatrix} = 7 - 15 = -8.$$

Ainsi, $x = \frac{\Delta_x}{\Delta} = \frac{-16}{-8} = 2$ et $y = \frac{\Delta_y}{\Delta} = \frac{-8}{-8} = 1$. d'où $S = \{(2, 1)\}$.

Exercices d'applications. Résoudre dans \mathbb{R} chacun des systèmes

$\begin{cases} 3x - 6y = 12 \\ -5x + 10y = -20 \end{cases}$	$\begin{cases} \frac{1}{3}x - \frac{1}{2}y = 1 \\ -x + \frac{3}{2}y = \frac{2}{3} \end{cases}$	$\begin{cases} \frac{3}{x-1} + 2(y-5) = 5 \\ \frac{-2}{x-1} + 7(y-5) = 5 \end{cases}$	$\begin{cases} 7\sqrt{1-3x} - 6\sqrt{5y} = 23 \\ 9\sqrt{1-3y} - 11\sqrt{5y} = 23 \end{cases}$
---	--	---	---

2. Systèmes linéaires dans \mathbb{R}^3

2.1 Définition

Un système linéaire dans \mathbb{R}^3 est tout système pouvant se mettre sous la forme :

$$\begin{cases} ax + by + cz = d \\ a'x + b'y + c'z = d' \\ a''x + b''y + c''z = d'' \end{cases} \quad \text{où } x, y \text{ et } z \text{ sont des inconnus.}$$

Résoudre un tel système revient à déterminer les valeurs de x, y et z .

2.1 Méthode par substitution

Activité : Résoudre dans \mathbb{R}^3 le système :
$$\begin{cases} x + y + z = 2 & (1) \\ 2x + y - z = 5 & (2) \\ -x + 2y + 3z = 0 & (3) \end{cases}$$

dans (1), on a $x = 2 - y - z$ (4).

on remplace x dans (2) et on a : $2(2 - y - z) + y - z = 5 \Leftrightarrow -y - 3z = 1$ (5)

on remplace x dans (3) et on a : $-(2 - y - z) + 2y + 3z = 0 \Leftrightarrow 3y + 4z = 2$ (6)

(5) et (6) donne le système de \mathbb{R}^2 :
$$\begin{cases} -y - 3z = 1 \\ 3y + 4z = 2 \end{cases}$$
 qui donne $y = 2$ et $z = -1$ puis on

remplace y et z dans (4) et obtient $x = 2 - 2 + 1 = 1$. D'où $S = \{(1, 2, -1)\}$.

2.2 Méthode du pivot de Gauss

Activité : Résoudre dans \mathbb{R}^2 le système :
$$\begin{cases} x + y - 2z = 7 & (E1) \\ 2x + y + z = 0 & (E2) \\ 3x + y + z = 8 & (E3) \end{cases}$$

PDF Compressor Free Version

On Choisi un pivot (par exemple (E1)) puis on annule une variable dans (E2) et (E3) (par exemple x).

On a donc : $2E1 - E2 \Leftrightarrow y - 5z = 14$ (E2')

$3E1 - E3 \Leftrightarrow 2y - 7z = 13$ (E3') le système devient
$$\begin{cases} x + y - 2z = 7 & (E1) \\ y - 5z = 14 & (E2') \\ 2y - 7z = 13 & (E3') \end{cases}$$

$2E2' - E3' \Leftrightarrow -3z = 15$ (E3'')

le système devient
$$\begin{cases} x + y - 2z = 7 & (E1) \\ y - 5z = 14 & (E2') \\ -3z = 15 & (E3'') \end{cases}$$

Ainsi $E3'' \implies z = -5$.

En remplaçant z dans $E2'$ on obtient $y - 5(-5) = 14 \implies y = -11$

En remplaçant z et y dans E1, on obtient $x - 11 - 2(-5) = 7 \implies x = 8$.

$S = \{(8, -11, -5)\}$

Exercice d'application

Résoudre dans \mathbb{R}^3 les systèmes :

$$a) \begin{cases} 2x + 2y + z = 4 \\ -2x + 3y + 2z = 2 \\ 5x - 2y - 2z = 1 \end{cases} \qquad b) \begin{cases} 2x + 2y + z = 4 \\ -2x + 3y + 2z = 2 \\ 5x - 2y - 2z = 1 \end{cases}$$

CHAPITRE 3 - LIMITES ET CONTINUITÉ

PDF Compressor Free Version

OBJECTIFS PEDAGOGIQUES

Dans ce chapitre, nous étudierons les notions de :

- limite finie ou infinie d'une fonction à l'infini.
- limite d'une fonction en un réel.
- limite de somme, produit, quotient et composés de fonctions.

Nous étudierons également la continuité d'une fonction en un point ou sur un intervalle, ainsi que quelques propriétés qui en découlent.

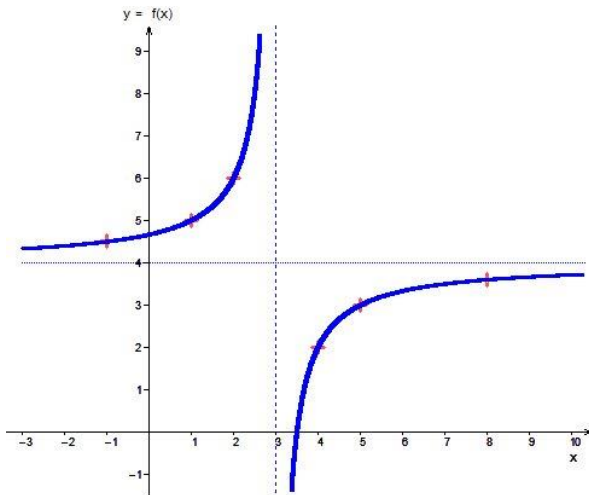
I- LIMITE D'UNE FONCTION EN L'INFINI

1-1) Limite finie à l'infini

Exemple :

La fonction définie par $f(x) = \frac{1}{x-3} + 4$ a pour limite 4 lorsque x tend vers $+\infty$.

En effet, les valeurs de la fonction se resserrent autour de 4 dès que x est suffisamment grand.



Définition

Soit f une fonction définie sur un intervalle $]a ; +\infty[$.

f a pour limite le réel l , quand x tend vers $+\infty$ si $f(x)$ est aussi proche de l , à condition de prendre x suffisamment grand.

On note alors $\lim_{x \rightarrow +\infty} f(x) = l$.

Conséquences

Lorsque x tend vers $+\infty$, la courbe de la fonction f se rapproche de plus en plus de la droite D d'équation $y = l$

On dit alors que D est une **asymptote horizontale** à la courbe de f au voisinage de $+\infty$.

Remarque :

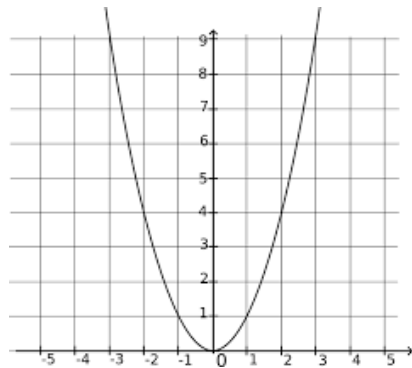
Lorsque x tend vers $+\infty$, la courbe de la fonction "se rapproche" de son asymptote.

Exemples : Conjecturer par calcul que $\lim_{x \rightarrow +\infty} \frac{x+4}{x-6} = 1$ et $\lim_{x \rightarrow +\infty} \frac{3x-5}{2x-6} = \frac{3}{2}$

1-2) Limite infinie en l'infinie

Exemple : La fonction définie par $f(x) = x^2$ a pour limite $+\infty$ lorsque x tend vers $+\infty$.

En effet, les valeurs de la fonction deviennent aussi grandes que l'on souhaite dès que x est suffisamment grand.



Définition

Soit f une fonction définie sur un intervalle $]a; +\infty[$.

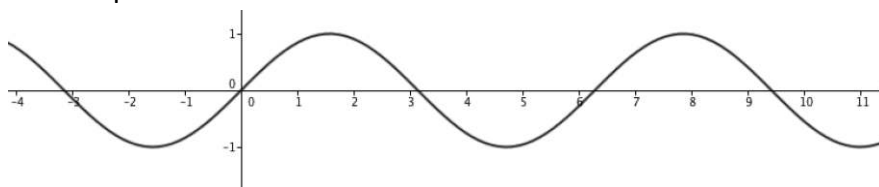
Dire que f a pour limite $+\infty$ quand x tend vers $+\infty$ signifie que $f(x)$ devient de plus en plus grand dès que x est suffisamment grand.

On note alors $\lim_{x \rightarrow +\infty} f(x) = +\infty$.

Exemple $\lim_{x \rightarrow +\infty} 2x = +\infty$. $\lim_{x \rightarrow -\infty} x^2 = +\infty$. $\lim_{x \rightarrow +\infty} x^2 = +\infty$. $\lim_{x \rightarrow -\infty} x^3 = -\infty$.

1-3) Sans limites

Toutes les fonctions n'admettent pas nécessairement une limite lorsque x tend vers $+\infty$. C'est le cas par exemple le cas avec les fonctions sinus et cosinus



Lorsque x s'en va vers $+\infty$, **sinus** et **cosinus** hésitent quant à l'attitude à adopter. Oscillant à jamais, ils n'ont aucune limite finie ou infinie...

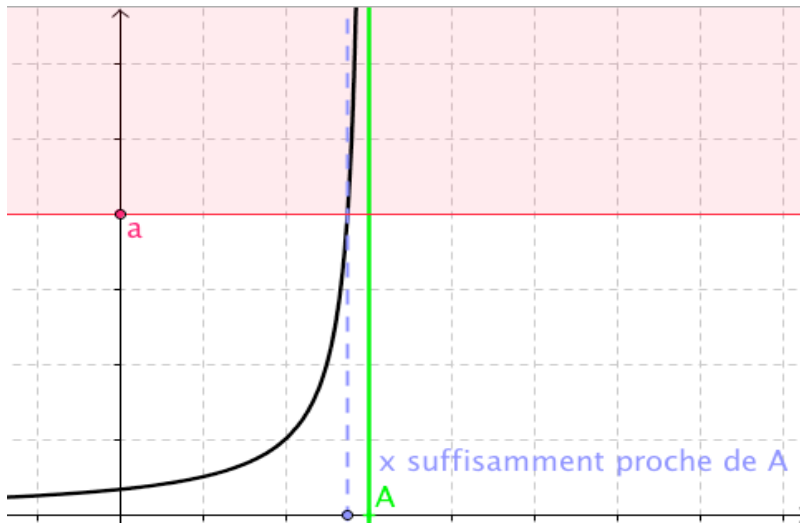
II. LIMITE D'UNE FONCTION EN UN RÉEL

2-1) Limite infinie en un réel

Exemple :

La fonction représentée ci-dessous a pour limite $+\infty$ lorsque x tend vers A

En effet, les valeurs de la fonction deviennent aussi grandes que l'on souhaite dès que x est suffisamment proche de A .



Définition

Dire que la limite de f en α est $+\infty$ signifie que $f(x)$ devient de plus en plus grand dès que x est suffisamment proche de α . On note alors $\lim_{x \rightarrow \alpha} f(x) = +\infty$

Conséquences

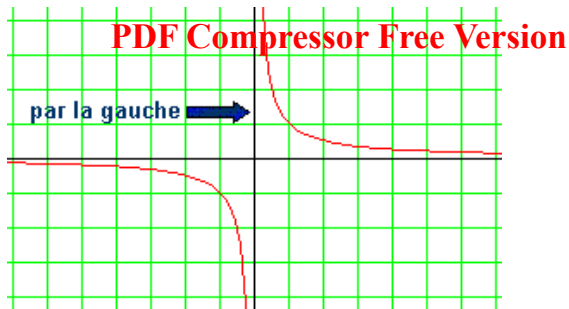
Lorsque x tend α , la courbe de la fonction f se rapproche de plus en plus de la droite D d'équation $x = \alpha$.

On dit alors que D est une **asymptote verticale** à la courbe de f au voisinage de α

Limite à gauche et limite à droite

Certaines fonctions admettent des limites différentes en un réel A selon $x > A$ ou $x < A$.

Considérons la fonction inverse définie sur $] -\infty; 0 [\cup] 0; +\infty [$ par , $f(x) = \frac{1}{x}$



Lorsque x se rapproche de 0 par la gauche ou par valeurs inférieures, $f(x)$ tend vers $-\infty$

On dit alors que la limite à gauche de $f(x)$ en 0 est égale à $-\infty$. Ce que l'on résume par :

$$\lim_{\substack{x \rightarrow 0 \\ x < 0}} f(x) = \lim_{x \rightarrow 0^-} f(x) = -\infty$$

Lorsque x se rapproche de 0 par la droite ou par valeurs supérieures, $f(x)$ tend vers $+\infty$.

On dit alors que la limite à droite de $f(x)$ en 0 est égale à $+\infty$. Ce que l'on résume par :

$$\lim_{\substack{x \rightarrow 0 \\ x > 0}} f(x) = \lim_{x \rightarrow 0^+} f(x) = +\infty$$

La fonction inverse n'admet pas de limite en 0 car elle a :
une limite à gauche de 0 qui vaut $-\infty$ et une limite à droite de 0 qui vaut $+\infty$.

II-2) Limite finie en un réel

On considère la fonction $g(x) = x^3$. Calculer $g(2)$ et conclure.

Propriété Lorsqu'une fonction admet une limite en un point, cette limite est unique.

III. LIMITES DES FONCTIONS DE REFERENCE

Fonctions	Ensemble de définition	Limites en $-\infty$	Limite en 0	Limites en $+\infty$
x	$] -\infty; +\infty[$	$-\infty$	0	$+\infty$
x^2	$] -\infty; +\infty[$	$+\infty$	0	$+\infty$
x^3	$] -\infty; +\infty[$	$-\infty$	0	$+\infty$
$\frac{1}{x}$	$] -\infty; 0[\cup] 0; +\infty[$	0	$\lim_{x \rightarrow 0^-} \frac{1}{x} = -\infty$ $\lim_{x \rightarrow 0^+} \frac{1}{x} = +\infty$	0
\sqrt{x}	$[0; +\infty[$		0	$+\infty$
$\cos(x)$ $\sin(x)$	$] -\infty; +\infty[$	N'existe pas	0 1	N'existe pas

IV. OPERATIONS SUR LES LIMITES

PDF Compressor Free Version

Nous allons utiliser plusieurs techniques pour calculer des limites, mais certaines opérations seront interdites car aboutissant à des formes indéterminées (du type $+\infty - \infty$; $0 \times \infty$; $\frac{\infty}{\infty}$ et $\frac{0}{0}$)

a) Somme de limites

Limite de f	Limite de g	Limite de f+g
l	l'	l+l'
l	$+\infty$	$+\infty$
l	$-\infty$	$-\infty$
$+\infty$	$+\infty$	$+\infty$
$-\infty$	$-\infty$	$-\infty$
$+\infty$	$-\infty$	Indéterminée

Exemples :

b) Produit des limites

Limite de f	Limite de g	Limite de f x g
l	l'	l x l'
l	∞	∞
∞	∞	∞
0	∞	indéterminée

c) Limite du quotient de deux fonctions

Par rapport à multiplication, la division ajoute le fait qu'on ne peut pas diviser par 0.

PDF Compressor Free Version

Limite de f	Limite de g	Limite de f/g
l	l'	l/l'
l	∞	0
∞	l'	∞
∞	∞	indéterminée
L	0	∞
∞	0	∞
0	0	indéterminée

d) Limite d'une fonction composée

Théorème : Soit f et g deux fonctions. a, l et l' trois réels éventuellement égaux à $\pm\infty$

$$\lim_{x \rightarrow a} f(x) = l$$

$$\lim_{x \rightarrow l} g(x) = l'$$

$$\text{Alors } \lim_{x \rightarrow a} g(f(x)) = l'$$

Exemple : Calculer $\lim_{x \rightarrow +\infty} \sqrt{\frac{3}{x} + 7}$ et $\lim_{x \rightarrow +\infty} \sin\left(\frac{1}{x}\right)$

V. METHODES DE CALCUL

Les opérations sur les limites ne permettent pas toujours de déterminer la limite d'une fonction. Il faut alors changer de chemin et modifier l'écriture de cette fonction... afin de pouvoir les appliquer !

a) Limite d'un polynôme et d'une fraction rationnelle

Propriétés

- A l'infini, un polynôme a même limite que son monôme de plus haut degré.
- A l'infini, une fonction rationnelle a les mêmes limites que le quotient des monômes de plus haut degré du numérateur et du dénominateur.

Exemples :

b) Théorème des gendarmes.

Théorème des gendarmes :

Soit $f, g,$ et h trois fonctions

PDF Compressor Free Version

On suppose que pour x assez grand, on a : $g(x) \leq f(x) \leq h(x)$

Si les fonctions g et h ont la même limite L en l'infini, la fonction f à l'infini est aussi égale à L

Exemple : Soit $f(x) = \frac{\sin x}{x}$ définie sur $]0; +\infty[$.

VI. CONTINUITÉ

a) Définition de la continuité

Dire qu'une fonction f , définie sur un intervalle I contenant a est continue signifie que

$$\lim_{x \rightarrow a} f(x) = f(a).$$

La fonction est continue sur I signifie qu'elle est continue en tout point de I .

Graphiquement, cela signifie que sa représentation graphique ne présente aucun point de rupture : on peut la tracer sans lever le crayon.

Exemples :

i) La fonction partie entière, notée E est définie par :

$E(x)$ est le plus grand entier relatif inférieur ou égal à x .

Par exemple, $E(2,3) = 2$; $E(2) = 2$; $E(2,9999) = 2$

Cette fonction est continue sur $[1 ; 2[$ et $[2 ; 3[$,

mais elle n'est pas continue sur $[1 ; 3[$.

ii) La fonction valeur absolue est continue sur \mathbb{R} , malgré l'angle en 0.

Théorème :

- Toute fonction polynôme est continue sur \mathbb{R} ,
- Toute fonction rationnelle est continue sur chaque intervalle de son ensemble de définition,
- La fonction $x \rightarrow \sqrt{x}$ est continue sur $[0 ; +\infty[$.
- Les fonction sinus(x) et cosinus(x) sont continues sur \mathbb{R}

b) Théorème des valeurs intermédiaires

Théorème des valeurs intermédiaires :

Soit f une fonction définie et continue sur un intervalle I , soit a et b deux réels appartenant à I .

Pour tout réel k compris entre $f(a)$ et $f(b)$, il existe au moins un réel c compris entre a et b tel

que : $f(c) = k$

CHAPITRE 4 : DERIVEE ET PRIMITIVES

PDF Compressor Free Version

A// : DERIVEE

I- NOMBRE DERIVEE D'UNE FONCTION EN a

1- Définition

Soit f une fonction numérique et a un nombre réel appartenant à l'ensemble de définition de f. On dit que la fonction f est dérivable en a si la fonction. $h \mapsto$

$\frac{f(a+h)-f(a)}{h}$ admet une limite L en a.

Cette limite finie L est appelée nombre dérivé de f en a et notée f'(a)

Remarque : En posant $h = x - a$, on a : $\frac{f(x)-f(a)}{x-a} = \frac{f(a+h)-f(a)}{h}$ on a ainsi :

$$f'(x) = \lim_{x \rightarrow a} \frac{f(x)-f(a)}{x-a}$$

2- Propriété

Si f est dérivable en x_0 , alors (C) admet une tangente (T) en A, dont le coefficient directeur est f'(a). Cette tangente a pour équation : (T) = f'(a)(x-a)+f(a).

Exemple : Dans chacun des cas suivants, déterminer le nombre dérivé, puis écrire une équation de la tangente à (Cf) au point d'abscisse x_0 .

a) $f(x) = x^2 - 2x + 1$; $x_0 = -1$;

b) $f(x) = \frac{x-1}{x+3}$; $x_0 = 0$.

II- FONCTIONS DERIVEES

1- Définition

Soit f une fonction numérique et I un intervalle de \mathbb{R} . On dit que f est dérivable sur I lorsque f est dérivable en tout point de I.

Propriété : Soit f une fonction numérique et I un intervalle de \mathbb{R} . Si f est dérivable sur I, alors f est continue sur I.

2- Dérivées des fonctions usuelles.

Fonction f	Fonction dérivée	Ensemble de dérivabilité
$f(x) = a$ ($a \in \mathbb{R}$)	$f'(x) = 0$	\mathbb{R}
$f(x) = x$	$f'(x) = 1$	\mathbb{R}
$f(x) = x^n$ ($n \in \mathbb{N}$)	$f'(x) = nx^{n-1}$	\mathbb{R}
$f(x) = \frac{1}{x}$	$f'(x) = -\frac{1}{x^2}$	\mathbb{R}^*
$f(x) = \sqrt{x}$	$f'(x) = \frac{1}{2\sqrt{x}}$	\mathbb{R}_+

3- Dérivée et opérations sur les fonctions

PDF Compressor Free Version

Fonction	dérivée	Fonction
$U+V$		$U'+V'$
kU ($k \in \mathbb{R}$)		kU'
UV		$U'V+UV'$
$\frac{1}{U}$		$-\frac{U'}{U^2}$
$\frac{U}{V}$		$\frac{U'V - UV'}{V^2}$

4- Exercice d'application

Déterminer la dérivée de la fonction f dans chacun des cas suivants :

a) $f(x) = 3x^2 - 4x + 5$; b) $f(x) = (3x+2)^4$; c) $f(x) = \frac{x+1}{x-1}$; d) $f(x) = \sqrt{x^3 - x + 2}$

III- Dérivée et sens de variation

1-Propriétés Soit f une fonction dérivable sur un intervalle I

- Si f' est positive sur I, alors f est croissante sur I.
- Si f' est négative sur I, alors f est décroissante sur I.
- Si f' est nulle sur I, alors f est constante sur I.

2- Exercice d'application

Dans chacun des cas suivants : Déterminer la dérivée de f ; étudier son signe et dresser son tableau de variation.

a) $f(x) = x^2 + 4x - 5$; b) $f(x) = \frac{x-3}{2x+1}$; c) $f(x) = \frac{x^2 - x + 2}{x-2}$

B// : PRIMITIVES

1- Définition

Soit f une fonction définie sur un intervalle I. On appelle primitive de f sur I, toute fonction F dérivable sur I telle que $F' = f$.

Exemple : Soit f la fonction définie sur \mathbb{R} par $f(x) = 2x + 3$. La fonction F définie sur \mathbb{R} par $F(x) = x^2 + 3x + 2$ est une primitive de f sur \mathbb{R} car $F'(x) = f(x)$.

2- propriétés

PDF Compressor Free Version

• Si F est une primitive de f sur I , alors l'ensemble des primitives de f sur I est l'ensemble des fonctions G . $G = F + k$ ($k \in \mathbb{R}$) $\Leftrightarrow F' = G' = f$.

• Soit f une fonction définie sur un intervalle I et admettant des primitives sur I . x_0 un réel de I et y_0 un réel donne. Il existe une unique primitive de f sur I prenant la valeur y_0 en x_0 .
On a : $F(x_0) = y_0$

Exemple : Trouve la primitive sur \mathbb{R} de la fonction $f(x) = 2x + 3$ qui prend la valeur 1 pour $x = 1$

admet des primitives sur I .

• Toute fonction continue sur un intervalle I

3- Primitives des fonctions usuelles

Fonction	Primitives	Sur l'ensemble
$f(x) = 0$	$F(x) = k$	\mathbb{R}
$f(x) = a$ ($a \in \mathbb{R}$)	$F(x) = ax + k$	\mathbb{R}
$f(x) = x$	$F(x) = \frac{1}{2}x^2 + k$	\mathbb{R}
$f(x) = x^n$ ($n \in \mathbb{N}$)	$F(x) = \frac{1}{n+1}x^{n+1} + k$	\mathbb{R}
$f(x) = \frac{1}{x^2}$	$F(x) = -\frac{1}{x} + k$	\mathbb{R}^*
$f(x) = \frac{1}{\sqrt{x}}$	$F(x) = 2\sqrt{x} + k$	$]0 ; \infty[$

4- Primitives et opérations sur les fonctions

Soit U et V deux fonctions définies et dérivables sur I .

Fonctions	Primitives
kU'	kU
$U' + V'$	$U + V$
$U'U^n$; ($n \in \mathbb{N}^* - 1$)	$\frac{1}{n+1}U^{n+1}$
$\frac{U'}{U^n}$ ($n \in \mathbb{N} - 1$)	$-\frac{1}{n-1} \frac{1}{U^{n-1}}$
$\frac{U'}{\sqrt{U}}$	$2\sqrt{U}$

5- Exercice d'applications :

Déterminer une primitive de chacune des fonctions suivantes :

$$f(x) = 3x ; \quad g(x) = 5x^3 - 3x + 2 ; \quad h(x) = 4(2x - 7)^2 ; \quad i(x) = \frac{5}{(5x + 3)^2} ;$$

$$l(x) = \frac{x^4 - x + 1}{x^4}, \quad m(x) = \frac{2x - 1}{\sqrt{x^2 - x + 1}}$$

PDF Compressor Free Version

Objectifs :

- Rappeler les généralités sur les fonctions
- Savoir étudier et représenter les fonctions de types $x \mapsto ax^2 + bx + c$, $x \mapsto \frac{ax+b}{cx+d}$ et $x \mapsto \frac{ax^2+bx+c}{dx+e}$

I- Quelques généralités

1. Asymptotes

Soit f une fonction numérique et (C_f) sa courbe représentative dans un repère orthonormal $(O, I; J)$. Soit a et b deux réels.

- Si $\lim_{x \rightarrow a} f(x) = \infty$ alors la droite d'équation $x = a$ est asymptote verticale à (C_f) .
- Si $\lim_{x \rightarrow -\infty} f(x) = b$ (respectivement $\lim_{x \rightarrow +\infty} f(x) = b$) alors la droite d'équation $y = b$ est asymptote horizontale à (C_f) en $-\infty$ (respectivement en $+\infty$).
- Si $\lim_{x \rightarrow -\infty} [f(x) - (ax + b)] = 0$ (respectivement $\lim_{x \rightarrow +\infty} [f(x) - (ax + b)] = 0$) alors la droite d'équation $y = ax + b$ est asymptote oblique à (C_f) en $-\infty$ (respectivement en $+\infty$).

2. Éléments de symétrie

Soit f une fonction numérique, D_f son domaine de définition et (C_f) sa courbe représentative dans un repère orthonormal $(O, I; J)$. Soit a et b deux réels.

- La droite d'équation $x = a$ est un axe de symétrie de (C_f) si et seulement si $\forall x \in D_f, 2a - x \in D_f$ et $f(2a - x) = f(x)$ **ou bien** $\forall x \in D_f, a - x \in D_f, a + x \in D_f$ et $f(a - x) = f(a + x)$.
- Le point $\Omega\left(\begin{smallmatrix} a \\ b \end{smallmatrix}\right)$ est un centre de symétrie de (C_f) si et seulement si $\forall x \in D_f, 2a - x \in D_f$ et $f(2a - x) + f(x) = 2b$ **ou bien** $\forall x \in D_f, a - x \in D_f, a + x \in D_f$ et $f(a - x) + f(a + x) = 2b$.

3. Parité

Soit f une fonction numérique, D_f son domaine de définition et (C_f) sa courbe représentative dans un repère orthonormal $(O, I; J)$.

- f est dite paire si et seulement si $\forall x \in D_f, -x \in D_f$ et $f(-x) = f(x)$.
- f est dite impaire si et seulement si $\forall x \in D_f, -x \in D_f$ et $f(-x) = -f(x)$.

Remarque : Dans le repère orthonormal $(O, I; J)$, la courbe la courbe d'une fonction paire est symétrique par rapport l'axe des ordonnées et celle d'une fonction impaire est symétrique par rapport à l'origine du repère.

Propriété : Si le domaine de définition d'une fonction n'est pas symétrique par rapport à l'origine du repère alors cette fonction n'est ni paire, ni impaire.

II- Plan d'étude d'une fonction

1. Etude des variations

- Ressortir le domaine de définition sous forme d'intervalle ou sous forme de réunion d'intervalles ;
- Calculer les limites aux bornes du domaine de définition ;
- Ressortir le domaine de continuité ;
- Ressortir le domaine de dérivabilité, calculer la dérivée, étudier son signe et dresser le tableau de variation.

2. Construction de la courbe

- Choisir un repère si l'énoncé ne le précise pas ;
- Déterminer les coordonnées de certains points particuliers de la courbe (Points de d'intersection de la courbe avec les axes du repère, extremums relatifs,...) ;
- Déterminer les équations des éventuelles asymptotes à la courbe ;
- Tracer la courbe en se servant si possible d'un tableau de valeur.

3. Propriétés géométriques de la courbe

Vérifier si la courbe admet un axe de symétrie, ou un centre de symétrie.

III- Exemples d'études de fonctions

1. Fonctions du type $x \mapsto ax^2 + bx + c$, avec $a \neq 0$

Exemple :

On considère la fonction f définie sur \mathbb{R} par $f(x) = -x^2 + 4x - 1$. On désigne par (C_f) la courbe représentative de f dans un repère orthonormé (O, I, J) d'unité graphique 1cm.

- Déterminer le domaine de définition de f puis calculer les limites de f au bornes de ce domaine.
- Etudier les variations de f et dresser son tableau de variation.
- Montrer que la droite d'équation $x = 2$ est axe de symétrie de (C_f) .
- Tracer (C_f) dans le repère (O, I, J) .
- Déterminer une équation de la tangente à (C_f) au point d'abscisse -1 .
- Résoudre graphiquement l'équation $f(x) = -1$ et l'inéquation $f(x) \leq -1$.

2. Fonctions du type $x \mapsto \frac{ax+b}{cx+d}$, avec $ad - bc \neq 0$

Exemple :

On considère la fonction f définie sur \mathbb{R} par $f(x) = \frac{-2x+3}{x+1}$. On désigne par (C_f) la courbe représentative de f dans un repère orthonormé (O, I, J) d'unité graphique 1cm.

- Déterminer le domaine de définition de f puis calculer les limites de f au bornes de ce domaine.
- Etudier les variations de f et dresser son tableau de variation.
- Montrer que le point $\Omega\left(-\frac{1}{2}\right)$ est le centre de symétrie de (C_f) .
- Construire (C_f) dans le repère (O, I, J) .

3. Fonctions du type $x \mapsto \frac{ax^2+bx+c}{dx+e}$, avec $a \neq 0$

PDF Compressor Free Version

Exemple 1 :

On considère la fonction f définie sur \mathbb{R} par $f(x) = \frac{2x^2-7x+8}{-x+2}$. On désigne par (C_f) la courbe représentative de f dans un repère orthonormé (O, I, J) d'unité graphique 1cm.

- d) Déterminer le domaine de définition de f puis calculer les limites de f au bornes de ce domaine.
- e) Etudier les variations de f et dresser son tableau de variation.
- f) Déterminer les réels a, b et c tels que $\forall x \neq 2$, on ait $f(x) = ax + b + \frac{c}{-x+2}$.
- g) Montrer que la droite (D) d'équation $y = ax + b$ est asymptote oblique à (C_f) .
- h) Etudier les positions relatives de (C_f) par rapport à (D) .
- h) Construire (C_f) et (D) dans le repère (O, I, J) .

Exemple 2 :

On considère la fonction f dont le tableau de variation est le suivant :

x	$-\infty$	-2	-1	0	$+\infty$
$f'(x)$	+		-		+
$f(x)$	$-\infty$	0	$-\infty$	4	$+\infty$

- 1. Déterminer le domaine de définition de f puis calculer les limites aux bornes de ce domaine
- 2. On suppose que $f(x) = ax + b + \frac{c}{x+1}$ où $a, b, c \in \mathbb{R}$.
 - a) Déterminer a, b et c .
 - b) Montrer $(D): y = x + 3$ est asymptote à (C_f) .
 - c) Etudier la position relative de (C_f) par rapport à (D) .
- 3. Montrer que $\Omega\left(\frac{-1}{2}\right)$ est le centre de symétrie de (C_f) .
- 4. Tracer soigneusement (C_f) .
- 5. Tracer dans le même repère la courbe de la fonction de la fonction g définie par $g(x) = |f(x)|$.

Chapitre 6 : Fonction Logarithme Népérien

PDF Compressor Free Version

I- Définition, premières propriétés et étude

1- Définition

La fonction logarithme népérien, notée « ln » est la primitive définie sur $]0, +\infty[$ et s'annulant pour $x = 1$ de la fonction $\frac{1}{x}$

2- Conséquences (directement liées à la définition)

- ✚ La fonction logarithme népérien est définie sur $]0, +\infty[$;
- ✚ $\ln 1 = 0$;
- ✚ ln est dérivable sur $]0, +\infty[$, et pour tout réel x de $]0, +\infty[$, on a $\ln'(x) = \frac{1}{x}$
- ✚ la fonction ln est strictement croissante sur $]0, +\infty[$. Il découle :
 - Pour tout réel x de $]0, 1[$, on a $\ln x < 0$
 - Pour tout réel x de $]1, +\infty[$, on a $\ln x > 0$
 - Pour tous réels x et y de $]0, +\infty[$, on a $\ln x = \ln y$ équivaut à $x = y$
 - Pour tous réels x et y de $]0, +\infty[$, on a $\ln x > \ln y$ équivaut à $x > y$

3- Propriété fondamentale : logarithme népérien d'un produit

Pour tous réels x et y de $]0, +\infty[$: $\ln(xy) = \ln x + \ln y$

Conséquences :

- Pour tous réels x et y de $]0, +\infty[$: $\ln\left(\frac{1}{x}\right) = -\ln x$
- Pour tous réels x et y de $]0, +\infty[$: $\ln\left(\frac{x}{y}\right) = \ln x - \ln y$
- Pour tous réels x et y de $]0, +\infty[$ et tout entier relatif n , on a : $\ln(x^n) = n \ln x$
- Pour tous réels x et y de $]0, +\infty[$: $\ln(\sqrt{x}) = \frac{1}{2} \ln x$

Exemples :

- $\ln(4) = \ln(2^2) = 2 \ln 2$
- Pour tout $x > 1$ $\ln\left(\frac{x+1}{x-1}\right) = \ln(x+1) - \ln(x-1)$

4- Etude de la fonction logarithme népérien

a. Continuité

ln est continue sur son ensemble de définition car elle y est dérivable (par définition).

b. Limites aux bornes de l'ensemble de définition

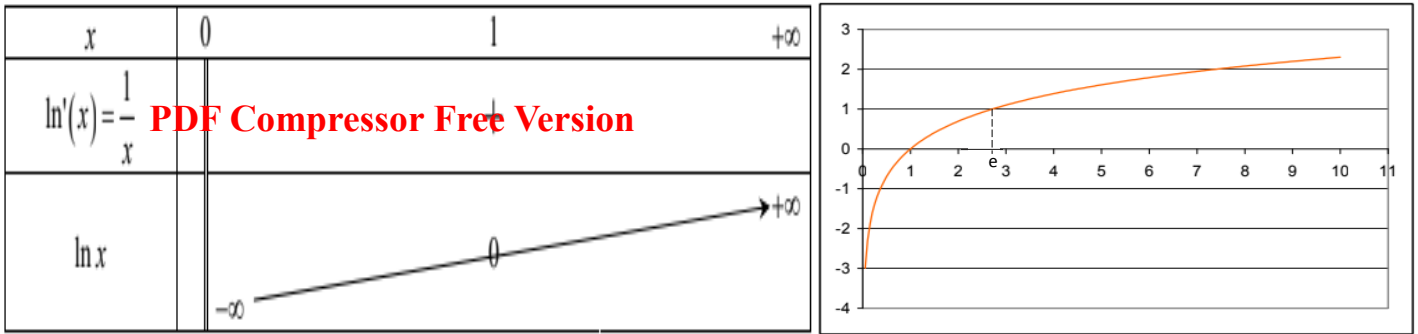
$$\lim_{x \rightarrow 0^+} \ln x = -\infty \qquad \lim_{x \rightarrow +\infty} \ln x = +\infty$$

c. Dérivée et sens de variation

ln est dérivable sur $]0, +\infty[$ et $\ln'(x) = \frac{1}{x}$

Comme $\frac{1}{x} > 0$, ln est strictement croissante sur $]0, +\infty[$

d. Tableau de variation et courbe représentative



5- Equation et inéquations avec ln

a. L'équation $\ln x = m$

i. Définition

Il existe un unique réel strictement positif, noté « **e** » et appelé « base du logarithme népérien », tel que : **$\ln e = 1$**

Remarques :

- Une valeur approchée de e à 10^{-3} près est : 2,718 ;
- Le point $M_e(e, 1)$ est le seul point de la courbe représentative du graphe du logarithme népérien où la tangente passe par l'origine (son équation est $y = \frac{x}{e}$)

ii. L'équation $\ln x = m$

Pour tout réel m, on note « e^m » (que l'on lit « **e** exposant m » ou « **exponentielle m** » - à voir dans le cours sur la fonction exponentielle) l'unique solution de l'équation **$\ln x = m$** .

Pour tout réel x, on a donc l'égalité suivante : **$\ln(e^x) = x$**

b. Exemple de résolution

Résoudre dans IR l'équation et l'inéquation suivantes :

a) (E) $\ln(2x+1) = \ln(x+3)$

b) (I) $\ln(2x-2) \leq \ln(x+1)$

Solution a)

✚ Ensemble de validité

L'équation (E) a un sens si $\begin{cases} 2x+1 > 0 \\ x+3 > 0 \end{cases} \Leftrightarrow \begin{cases} x > -\frac{1}{2} \\ x > -3 \end{cases}$ et donc si $x \in]-\frac{1}{2}; +\infty[$

✚ Résolution

$\ln(2x+1) = \ln(x+3) \Leftrightarrow 2x+1 = x+3$ soit $x=2$,

Comme $2 \in]-\frac{1}{2}; +\infty[$, alors **$S=\{2\}$**

Solution b)

✚ Ensemble de validité

L'inéquation (I) a un sens si et seulement $\begin{cases} x+1 > 0 \\ 2x-2 > 0 \end{cases} \Leftrightarrow \begin{cases} x > -1 \\ x > 1 \end{cases}$ et donc si $x \in]1; +\infty[$

✚ Résolution

$\ln(2x-2) \leq \ln(x+1) \Leftrightarrow 2x-2 \leq x+1$ soit $x \leq 3$, d'où l'ensemble solution est $S =]1 ; 3]$

PDF Compressor Free Version

Exercices p. 73 (Majors en Mathématiques Tles A-SES)

II- Limites, dérivée et primitives

1- Limites

a. Limites fondamentales

$$\lim_{x \rightarrow +\infty} \left(\frac{\ln x}{x} \right) = 0$$

$$\lim_{x \rightarrow +\infty} x \ln x = 0$$

b. Autres limites

Soit a est un réel ou $+\infty$ ou $-\infty$

✚ Si $\lim_{x \rightarrow a} U(x) = 0$ alors $\lim_{x \rightarrow a} \ln(U(x)) = -\infty$

✚ Si $\lim_{x \rightarrow a} U(x) = +\infty$ alors $\lim_{x \rightarrow a} \ln(U(x)) = +\infty$

Exemples

$$\lim_{x \rightarrow -1^+} \ln(x+1) = -\infty \quad \text{car} \quad \lim_{x \rightarrow -1^+} x+1 = 0$$

2- Dérivée de la fonction de la forme $\ln u$

Propriété : Si u est une fonction dérivable et positive sur un intervalle I , alors $\ln(u)$ est dérivable sur I , et $(\ln(u))' = \frac{u'}{u}$

Exemples :

$$f(x) = \ln(x^2 + x - 5) \quad \rightarrow \quad f'(x) = \frac{2x + 1}{x^2 + x - 5}$$

$$f(x) = \ln(1 - x) \quad \rightarrow \quad f'(x) = \frac{1}{x - 1}$$

3- Primitive d'une fonction de la forme $\frac{u'}{u}$

Propriété : Si u est une fonction dérivable sur un intervalle I sur lequel u ne s'annule pas, alors, $\frac{u'}{u}$ admet pour primitive sur I , $\ln|u| + k$, où k est une constante réelle.

Exemples :

$$f(x) = \frac{2x}{x^2 + 1} \quad \rightarrow \quad f'(x) = \ln(x^2 + 1) + k, \quad \text{avec } k \in \mathbf{IR}$$

$$f'(x) = \frac{-1}{3 - x} \quad \rightarrow \quad f(x) = \ln|3 - x| + k, \quad \text{avec } k \in \mathbf{IR}$$

III- Exemples d'étude de fonction comportant \ln

Exemple : Etudions la fonction définie par $f(x) = \ln(4-x)$

a) Ensemble de définition

$f(x)$ existe si et seulement si $4-x > 0 \Leftrightarrow x < 4$ d'où $D_f =]-\infty ; 4[$

b) Limite

- Comme $\lim_{x \rightarrow -\infty} 4 - x = +\infty$ alors $\lim_{x \rightarrow -\infty} \ln(4 - x) = +\infty$
- Comme $\lim_{x \rightarrow 4^-} 4 - x = 0$ alors $\lim_{x \rightarrow 4^-} \ln(4 - x) = -\infty$, donc la droite d'équation $x=4$ est A.V à (C_f)

c) Dérivabilité

La fonction $x \rightarrow (4 - x)$ est dérivable et positive sur $] - \infty; 4[$ car c'est une fonction polynôme, ainsi donc la fonction $x \rightarrow \ln(4 - x)$ est dérivable sur $] - \infty; 4[$

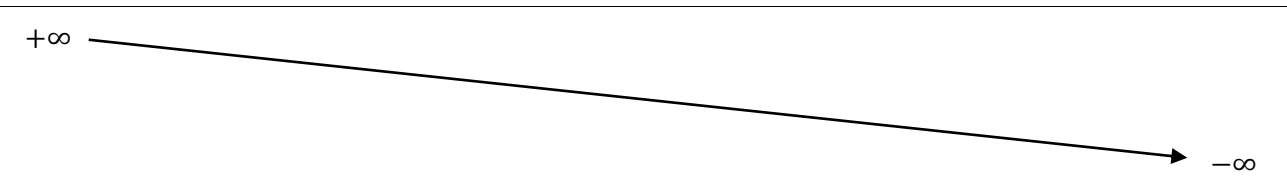
d) Dérivée

Pour tout x de $] - \infty; 4[$ on a $f'(x) = \frac{(4-x)'}{4-x} = -\frac{1}{4-x}$

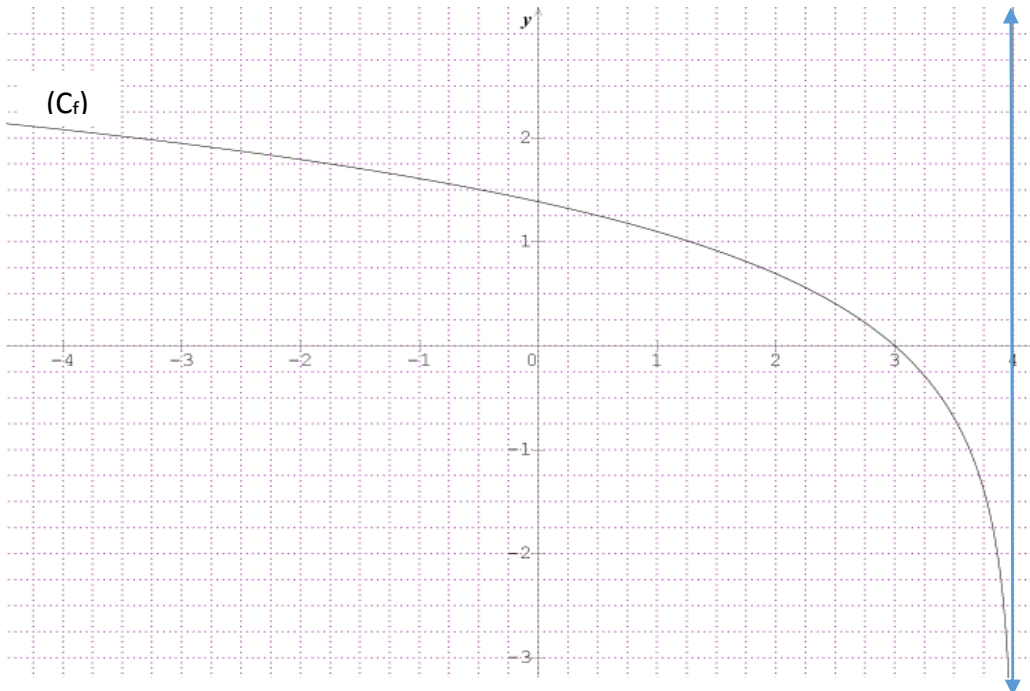
e) Signe de la dérivée

Pour tout réel x de $] - \infty; 4[$, $f'(x) < 0$ donc f est strictement décroissante sur $] - \infty; 4[$

f) Tableau de variation

x	$-\infty$			4	
f'(x)		-			
f(x)	$+\infty$				$-\infty$

g) Courbe représentative



Exercice : Etudier et représenter graphiquement la fonction $g(x)=\ln(3x-2)$

Chap7 : FONCTIONS EXPONENTIELLES

PDF Compressor Free Version NÉPÉRIENNES

Savoirs et savoir-faire

- Définir la fonction exponentielle népérienne.
- Utiliser les propriétés fondamentales des fonctions exponentielles pour écrire simplement une expression comportant **exp**.
- Résoudre les équations, inéquations et systèmes d'équations comportant **exp**.
- Étudier les fonctions exponentielles.

1. Définitions et propriétés

(a) Définition 1

Soit \mathcal{E} et \mathcal{F} deux ensembles non vides, f une application définie de \mathcal{E} vers \mathcal{F} et g une application de \mathcal{F} vers \mathcal{E} .

L'application f est dite bijective lorsque pour tout y de \mathcal{F} , l'équation $f(x) = y$ admet une unique solution dans \mathcal{E} .

Si l'application g de \mathcal{F} vers \mathcal{E} est telle que pour tout $y \in \mathcal{F}$; $g(y) = x$ et $f(x) = y$, alors g est la réciproque de l'application f notée f^{-1} .

$$\text{On a } f : \begin{cases} \mathcal{E} \rightarrow \mathcal{F} \\ x \mapsto y = f(x) \end{cases} \text{ et } g : \begin{cases} \mathcal{F} \rightarrow \mathcal{E} \\ y \mapsto x = g(y) \end{cases} .$$

(b) Définition 2

La bijection réciproque de la fonction logarithme népérienne est appelée exponentielle népérienne notée $\exp(x)$ ou e^x définie sur \mathbb{R} et se lit exponentielle(x).

Exemples : $e^{-2} \simeq 0,13$; $e^0 = 1$; $e^{\sqrt{2}} \simeq 4,1$; $e^5 \simeq 148,41$.

(c) Conséquences

- La fonction exponentielle est définie pour tout $x \in \mathbb{R}$.
- Pour tout réel x , on a $e^x > 0$.
- Pour tout réel x , $e^x = y \Leftrightarrow x = \ln y$ avec $y > 0$.
- La fonction exponentielle est une bijection strictement croissante.

(d) Propriétés

Soient a et b deux nombres réels :

- $\forall a \in \mathbb{R}, e^a > 0$.
- $\ln(e^a) = a$.
- Si $a > 0$, alors $e^{\ln a} = a$.
- $e^{a+b} = e^a \times e^b$; $e^{a-b} = \frac{e^a}{e^b}$ et $e^{-a} = \frac{1}{e^a}$.
- $(e^a)^n = e^{a \times n}$ avec $n \in \mathbb{N}$.

Exercice : Écrire plus simplement les expressions suivantes :

$$e^{-a} \times e^a = \dots ; e^{2\ln 3 + \frac{5}{2}} = \dots ; \frac{e^{12}}{e^2} + (e^5)^2 = \dots$$

2. Équations et inéquations en exp

(a) Équations en exp

i. **Équations du type $e^x = a$ avec $a \in \mathbb{R}$.**

- Si $a \leq 0$, alors l'équation $e^x = a$ n'admet pas de solution. Donc $S = \emptyset$
- Si $a > 0$, alors l'équation $e^x = a$ admet une seule solution. Ainsi, on a

$$e^x = a \Rightarrow \ln e^x = \ln a$$

$$\Rightarrow x = \ln a \quad \text{Donc } S = \{\ln a\}$$

Activité

Résoudre dans \mathbb{R} les équations suivantes :

PDF Compressor: Free Version $e^{2x} - e^x = \frac{2}{3}$; $e^{3x-1} - 5 = 0$; $(e^x - 1)(e^{-x} + 1) = 0$.

Solution

ii. **Équations du type** $ae^{2x} + be^x + c = 0$ avec $a \neq 0$

En général, pour résoudre une telle équation, on pose $X = e^x$ avec $X > 0$.

Activité

Résoudre dans \mathbb{R} les équations suivantes :

$e^{2x} - 7e^x + 12 = 0$; $e^{2x} - 2e^x - 3 = 0$; $e^{2x} + e^x + 1 = 0$; $e^{2x} + 5e^x + 6 = 0$.

Solution

(b) **Inéquations en exp**

Activité

Résoudre dans \mathbb{R} les inéquations suivantes :

$e^x - 1 < 0$; $e^{x+1} - 3 > 0$; $e^{2x} - 7e^x + 12 \leq 0$; $e^{2x} - 2e^x - 3 \geq 0$

Solution

3. **Système d'équations en exp**

Activité

Résoudre dans \mathbb{R}^2 ou dans \mathbb{R}^3 les systèmes d'équations suivants :

(S₁): $\begin{cases} 4e^x - 3e^y = 9 \\ 2e^x + e^y = 7 \end{cases}$ (S₂): $\begin{cases} 4e^{2x+1} - e^{-y} = 2 \\ -e^{2x+1} + 2e^{-y} = -3 \end{cases}$ (S₃): $\begin{cases} e^{2x} - 7e^{y+1} = -10 \\ x - y = 1 \end{cases}$ (S₄): $\begin{cases} e^x = e^{1-y} \\ \ln x + \ln y = -\ln 6 \end{cases}$

(S₅): $\begin{cases} 2e^x - 3e^y + e^z = -4 \\ 3e^x - 2e^y - e^z = -1 \\ e^x + e^y + e^z = 3 \end{cases}$

Solution

4. **Études des fonctions exponentielles**

(a) **Limites classiques**

i.

$$\lim_{x \rightarrow -\infty} e^x = 0 \quad \text{et} \quad \lim_{x \rightarrow +\infty} e^x = +\infty$$

ii.

$$\lim_{x \rightarrow -\infty} xe^x = 0 \quad \text{et} \quad \lim_{x \rightarrow +\infty} xe^x = +\infty$$

iii.

$$\lim_{x \rightarrow +\infty} \frac{e^x}{x} = +\infty$$

iv.

$$\lim_{x \rightarrow 0} \frac{e^x - 1}{x} = 1$$

Application : Calculer les limites de chacune des fonctions suivantes en $-\infty$ et en $+\infty$:

$f(x) = (x+1)e^x$; $f(x) = x^2 e^{-x}$; $f(x) = \frac{2x+3}{e^x}$.

Solution

(b) **Fonction dérivée**

i. **Définition**

Si la fonction U est dérivable sur un intervalle I , alors la fonction e^U est dérivable sur U et pour tout x de I , $(e^{U(x)})' = U'(x) \times e^{U(x)}$.

ii. **Application** Déterminer les dérivées des fonctions suivantes :

$$f(x) = e^{x^2} \quad g(x) = e^{-x-1} \quad h(x) = e^{-x} + 5 \quad V(x) = e^{x^3-2x^2+7} \quad U(x) = e^{3-5x}.$$

(c) **Primitive des fonctions** $U' e^U$

i. **Définition**

Les primitives des fonctions de la forme $U' e^U$ sont les fonctions $e^U + K$ où $K \in \mathbb{R}$.

ii. **Application** Déterminer une primitive sur \mathbb{R} des fonctions suivantes :

$$a) f(x) = -e^{-x} \quad b) f(x) = x e^{x^2} \quad c) f(x) = e^{2x} \quad d) f(x) = e^{2-x} + 1 \quad e) f(x) = e^{-x}.$$

(d) **Études des variations de quelques fonctions**

i. **Activité**

Étudiez les variations des fonctions suivantes :

$$f(x) = x + e^x \quad g(x) = (x+1)e^x \quad h(x) = 2x + e^{1-x} \quad k(x) = e^{3x} - 2e^x.$$

ii. **Solution**

A. **Étude de $f(x)$**

- **Ensemble de définition de la fonction f** : $D_f =]-\infty; +\infty[$.
- **Calcul des limites aux bornes de la fonction f**

$$\begin{aligned} \lim_{x \rightarrow -\infty} f(x) &= \lim_{x \rightarrow -\infty} (x + e^x) \\ &= -\infty \quad \text{Car} \quad \lim_{x \rightarrow -\infty} x = -\infty \quad \text{et} \quad \lim_{x \rightarrow -\infty} e^x = 0. \end{aligned}$$

$$\begin{aligned} \lim_{x \rightarrow +\infty} f(x) &= \lim_{x \rightarrow +\infty} (x + e^x) \\ &= +\infty \quad \text{Car} \quad \lim_{x \rightarrow +\infty} x = +\infty \quad \text{et} \quad \lim_{x \rightarrow +\infty} e^x = +\infty. \end{aligned}$$

La droite d'équation $y = x$ est asymptote oblique en $-\infty$, mais ne l'est pas en $+\infty$

$$\text{car} \quad \lim_{x \rightarrow -\infty} [f(x) - y] = \lim_{x \rightarrow -\infty} [x + e^x - x] = \lim_{x \rightarrow -\infty} e^x = 0 \quad \text{et par contre}$$

$$\lim_{x \rightarrow +\infty} [f(x) - y] = \lim_{x \rightarrow +\infty} [x + e^x - x] = \lim_{x \rightarrow +\infty} e^x = +\infty$$

- **Tableau de variation de la fonction f**

$$\forall x \in D_f, f'(x) = (x + e^x)' = 1 + e^x.$$

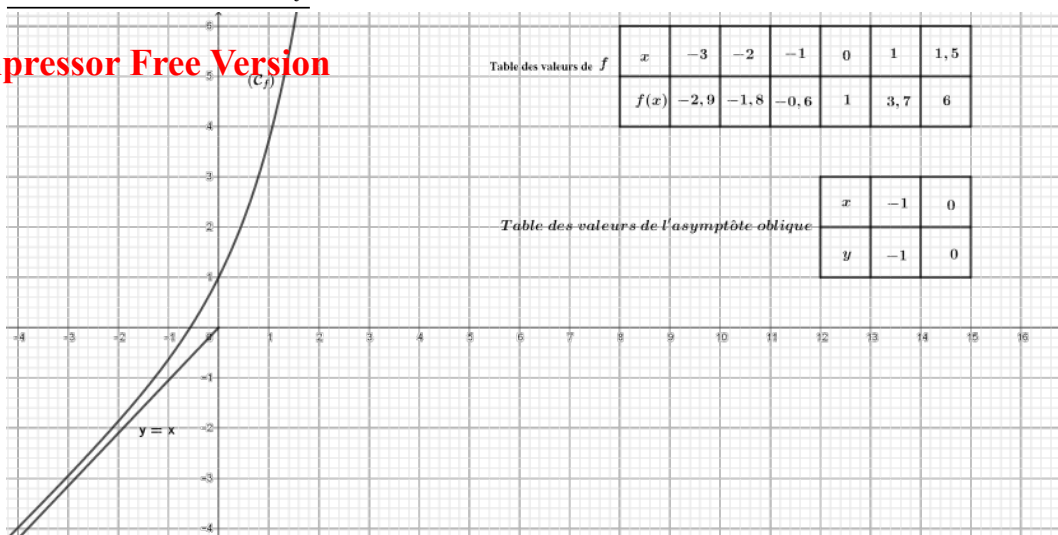
$$\begin{aligned} f'(x) = 0 &\Rightarrow 1 + e^x = 0 \\ &\Rightarrow e^x = -1 \quad (\text{Impossible}). \end{aligned}$$

Ainsi $\forall x \in D_f, f'(x) > 0$. Donc la fonction f est strictement croissante.

x	$-\infty$	$+\infty$
$f'(x)$	+	
$f(x)$		

– Tracé de la courbe (\mathcal{C}_f)

PDF Compressor Free Version



B. Étude de $g(x)$

Leçon 1 : GÉNÉRALITÉS

Objectif

- Maîtriser les vocables statistiques et les appliquer

1. Le vocabulaire utilisé en statistique

➤ Définition 1

- L'ensemble sur lequel on travaille en statistique est appelé **population**.
- Si cet ensemble (la *population* étudiée) est trop vaste, on en restreint l'étude à une partie appelée **échantillon**.
- Un élément de cet ensemble (la *population* ou l'*échantillon* étudié) est appelé **individu**.

➤ Définition 2

- La particularité commune que l'on étudie sur une population donnée est appelée **caractère**.
- Les valeurs prises par le caractère étudié sont aussi appelées les **modalités**.

↪ Remarque 1 :

Lorsque les modalités sont des nombres isolés, il s'agit d'un caractère **quantitatif discret**. Dans ce cas, on note ces nombres en général x_0, x_1, \dots

❖ Exemples :

Le nombre de frère et sœur d'un élève de TleA du Lycée de Kolofata est un caractère **quantitatif discret**. Il peut prendre les valeurs 0, 1, 2, 3, 4 ...

↪ Remarque 2 :

Lorsque les modalités sont des intervalles de \mathbb{R} , il s'agit d'un caractère **quantitatif continu**.

Dans ce cas, on note ces intervalles en général $[a_0 ; a_1[, [a_1 ; a_2[, \dots, [a_{p-1} ; a_p[$.

❖ Exemple :

La taille des élèves de TleA du Lycée de Kolofata est un caractère quantitatif continu.

↪ Remarque 3 :

Lorsque les modalités ne sont pas des nombres ou des intervalles de \mathbb{R} , il s'agit d'un caractère **qualitatif**.

❖ Exemple :

La couleur des yeux des filles de TleA est un caractère qualitatif

2. Cas particulier des caractères quantitatifs continus

Les modalités, notées en général $[a_0 ; a_1[$, $[a_1 ; a_2[$, ..., $[a_{p-1} ; a_p[$, sont encore appelées **classes**

Étant donnée une classe $[a_{k-1} ; a_k[$, le nombre $\alpha_k = a_k - a_{k-1}$ est appelé **amplitude** de la classe

Étant donnée une classe $[a_{k-1} ; a_k[$ le nombre $c_k = \frac{a_{k+1} + a_k}{2}$ est appelé **centre** de la classe

➤ Définition 3

- Le nombre d'individus (n_k) d'une modalité est appelé **effectif** de cette modalité.
- Le nombre total N d'individus de la population est appelé **effectif total**.
- Le rapport $f_k = \frac{n_k}{N}$ est appelé **fréquence**

↳ Remarque :

- f_k est un nombre toujours compris entre 0 et 1.
- Souvent, les nombres f_k s'expriment par un pourcentage.
- La somme des nombres f_k est toujours égale à 1 ($\sum f_k = 1$).
 - Effectif cumulé croissant : somme de l'effectif considéré et des effectifs qui le précèdent.
 - Effectif cumulé décroissant : somme de l'effectif considéré et des effectifs qui le suivent.

✚ Exercice d'application

Le tableau ci-dessous donne les notes sur 20 obtenues à un devoir de mathématiques, par les élèves d'une classe de TleA.

10	3	15	6	13	5	8	11	7	8,5	4,5
7	10	12	13	10	14	8	11	9	9	7
9	4	7	17	3	16	7	10	16,5	3	3,75
13	8	5	8	11	8	8	5	7,5	11	11,5
9	3	11	9	6	7	10	3	3,5	4	10,5

- 1) Combien de modalités compte cette série statistique ?
- 2) Regrouper ces notes dans quatre intervalles semi-fermés à gauche d'amplitude 5.
- 3) En remplaçant chaque intervalle par son centre compléter les lignes des effectifs, des effectifs cumulés croissants et décroissants et celle des fréquences.

3. Représentations graphiques

a) Diagramme en bâtons

On l'utilise pour les séries à caractère discret. Pour celles qui utilisent un repère cartésien :

- Sur l'axe des abscisses : valeurs du caractère ;
- Sur l'axe des ordonnées : valeurs des effectifs ou fréquences.

Principe : les hauteurs des différents bâtons sont proportionnelles aux effectifs correspondants

b) Histogramme

On l'utilise pour les séries à caractère continu, lorsque les valeurs de la variable sont réparties en classes.

Principe : les aires des différents rectangles sont proportionnelles aux effectifs (aux fréquences) correspondants.

4. Caractéristiques de position et de dispersion

a) Caractéristiques de position

- **Le mode**

Le mode est la valeur du caractère qui correspond au **plus grand effectif**, pour une suite à caractère discret (mode = dominante).

La classe modale est la classe qui correspond au plus grand effectif, pour une série à caractère continu ;

Le mode est le centre de la classe modale

- **La médiane**

La médiane est la valeur du caractère qui partage la série en deux séries partielles ayant le **même effectif**.

La médiane se détermine **graphiquement** à l'aide du **point d'intersection** du polygone statistique des **effectifs cumulés croissants et décroissants**.

- **Les quartiles**

Les trois quartiles sont les trois valeurs du caractère qui partage la population totale en quatre parties d'effectifs égaux

Le premier quartile Q_1 correspond à **25% de l'effectif total**.

Le deuxième quartile Q_2 est égale à la **médiane** (50% de l'effectif total).

Le troisième quartile Q_3 correspond à **75% de l'effectif total**.

L'intervalle interquartile est la différence entre les quartiles extrêmes ; il a pour valeur $Q_3 - Q_1$.

- **Les déciles**

D_1, D_2, \dots, D_9 ; chaque décile partage en dix parts égales l'effectif total.

L'intervalle interdécile est la différence entre les déciles extrêmes ; il a pour valeur $D_9 - D_1$.

b) Caractéristiques de dispersion

- **Calcul de la moyenne d'une série distribuée en classes**

Méthode :

On détermine le centre des classes (c_k) ;

On effectue le produit $n_k c_k$;

On effectue le calcul

$$\bar{x} = \frac{n_1c_1 + n_2c_2 + \dots + n_kc_k}{N} = \frac{1}{N} \sum_{k=1}^N n_kc_k$$

PDF Compressor Free Version

- **Étendue**

L'étendue est la différence entre la plus grande et la plus petite valeur de la série.

- **Variance**

La variance (ou fluctuation) est la moyenne arithmétique des carrés des différences de chaque valeur avec la moyenne : $V = \frac{1}{N} \sum_{k=1}^N n_k(c_k - \bar{x})^2$

Pour les calculs on utilise la formule :

$$V = \frac{1}{N} \sum_{k=1}^N n_kc_k^2 - \bar{x}^2$$

- **Écart-type**

L'écart-type σ est un nombre qui caractérise la dispersion des valeurs autour de la moyenne. C'est la racine carrée de la variance : $V = \sigma^2$;

$$\sigma = \sqrt{V}$$

✚ Exercice d'application

Le dynamisme de de l'entreprise BUTRAF SARL se manifeste par u renouvellement important de sa gamme de produits.

Un nouveau « porteur » doit enrichir cette ligne de produits. Le travail auquel vous participez va permettre de le présenter aux vendeurs.

Une enquête a été réalisée auprès d'un échantillon de distributeurs. Les résultats apparaissent dans le tableau suivant.

Prix d'un porteur	Nombre de porteurs vendus
[50; 100[150
[100; 200[180
[200; 300[250
[300; 400[220
[400; 500[100

a) Calculer le prix moyen \bar{x} .

En déduire la variance V et l'écart-type σ de cette série statistique.

b) Tracer le polygone des effectifs cumulés croissants.

Déduire du graphique le prix correspondant à un effectif cumulé de croissant de 450 (le prix médian)

c) On prend $\sigma = 118$

1° Calculer $\bar{x} - \sigma$ et $\bar{x} + \sigma$

2° À l'aide du graphique établi à la question précédente, déterminer le nombre de porteurs dont les prix sont compris entre $[\bar{x} - \sigma, \bar{x} + \sigma]$.

Exprimer ce nombre des porteurs en pourcentage de l'effectif total.

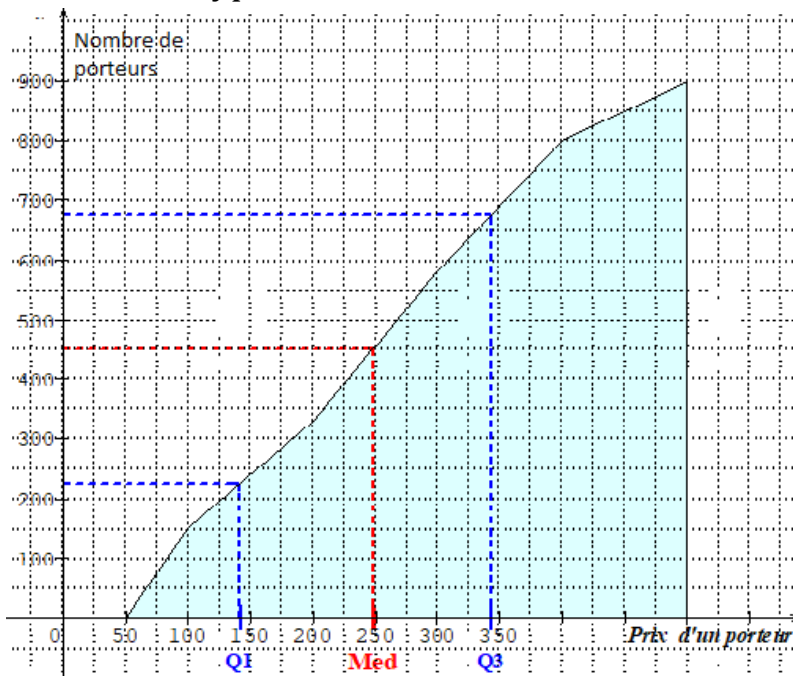
Corrigé

Prix d'un porteur	Centre des classes c_k	Effectifs n_k	ECC	$n_k c_k$	$c_k - \bar{x}$	$(c_k - \bar{x})^2$	$n_k (c_k - \bar{x})^2$
[50; 100[75	150	150	11 250	-172	843 750	4 437 620
[100; 200[150	180	330	27 000	-97	4 050 000	1 693
[200; 300[250	250	580	62 500	+3	15 625 000	2 250
[300; 400[350	220	800	77 000	+103	26 950 000	2 333 980
[400; 500[450	100	900	45 000	+203	20 250 000	4 120 350
Totaux		900	/	222 750	/	67 718 750	12 588 350

a) Le prix moyen est $\bar{x} = \frac{222\,750}{900} = 247,5$ par défaut $\bar{x} = 247$.

b) Variance $v = \frac{12\,588\,350}{900} = 13\,987$. $V = 13\,987$

Écart-type $\sigma = \sqrt{V} = \sqrt{13\,987} = 118,27$ $\sigma = 118$



Prix médian : **250 F**

1° $\bar{x} - \sigma = 247 - 118 = 129$

$\bar{x} + \sigma = 247 + 118 = 365$

2° Sur le graphique, on cherche les ordonnées qui correspondent aux abscisses 129 et 365 ; on lit

pour $x = 129 \rightarrow y = 200$; $x = 365 \rightarrow y = 720$

Soit $720 - 200 = 520$ porteurs dans l'intervalle

$[\bar{x} - \sigma ; \bar{x} + \sigma [$ Ce qui correspond à un effectif de $\frac{520}{900} \times 100 = 57,8\%$ de l'effectif

Leçon 2 SÉRIES STATISTIQUES DOUBLES

Objectifs

- Étudier deux caractères chez les individus d'une population ;
- Étudier la corrélation entre ces deux caractères

2.1. Préliminaires

On peut étudier sur une population donnée deux caractères quantitatifs X et Y . La modalité de chaque individu est alors un couple (x_i, y_j) des nombres réels. On obtient ainsi une série statistique à deux caractères ou série double.

Le nombre d'individus qui possèdent la modalité (x_i, y_j) est appelé effectif de cette modalité et on le note n_{ij} . La série double est alors notée $(x_i; y_j; n_{ij})$.

Remarque : les séries statistiques $(x_i; n_i)$ et $(y_j; n_j)$ où n_i et n_j représentent les effectifs des modalités x_i et y_j sont appelées **séries marginales** de la série statistique double $(x_i; y_j; n_{ij})$.

2.2. Nuages des points

On appelle **nuage des points** associé à la série statistique $(x_i; y_j; n_{ij})$, l'ensemble des points M_{ij} du plan dont les coordonnées sont (x_i, y_j) .

Pour des modalités $(x_i; y_j)$ on peut avoir deux types de représentations :

- **Représentations par des points pondérés** : à côtés de chaque point, on porte l'effectif de la modalité.
- **Représentation par de tâches** : chaque point sera représenté par un disque dont l'aire est proportionnelle à l'effectif de la modalité.

2.3. Point moyen

On appelle point moyen d'un nuage le point G de coordonnées (\bar{x}, \bar{y}) où $\bar{x} = \frac{x_1+x_2+\dots+x_k}{N}$ et $\bar{y} = \frac{y_1+y_2+\dots+y_k}{N}$

Exemples

Le tableau suivant donne le poids X en grammes et Y la taille en centimètre en centimètres en fonction du poids d'une population donnée.

Poids X	10	25	40	50	55	60	65	70	75	80
Taille Y	11	20	35	45	50	53	60	63	73	75

- 1) Représenter le nuage des points dans le plan muni d'un repère orthogonal. Échelle 1cm pour 10g et 1cm pour 10cm.
- 2) Déterminer le point moyen G de ce nuage.
- 3) La série ci-dessus est divisée en deux sous séries :

Sous série A :

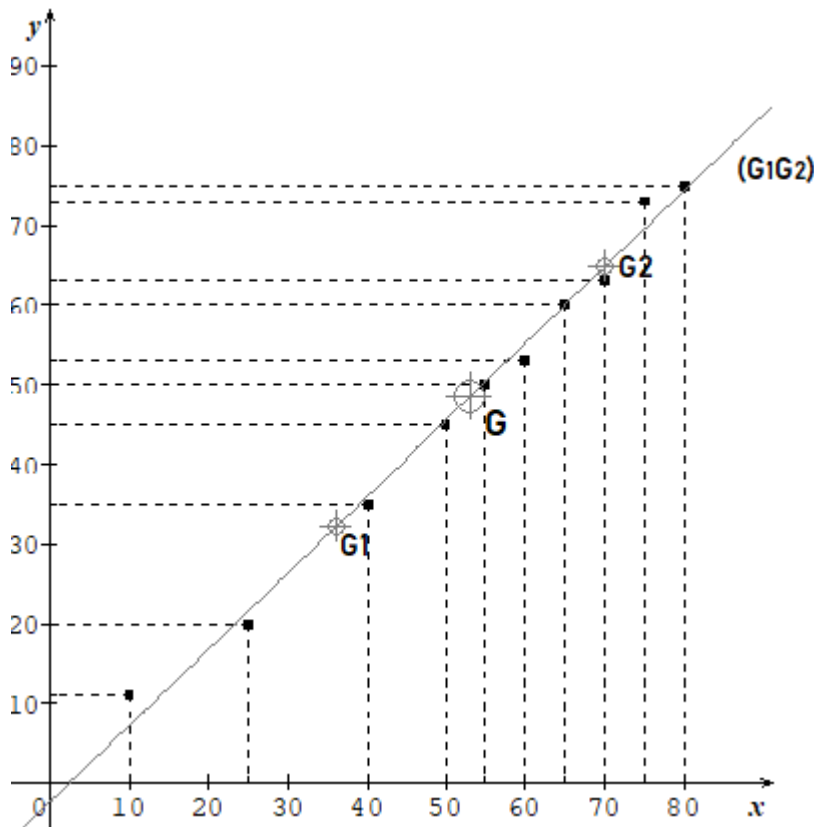
Poids X	10	25	40	50	55
Taille Y	11	20	35	45	50

Sous série B :

Poids X	60	65	70	75	80
Taille Y	53	60	63	73	75

- a) Calculer les coordonnées des points G_1 et G_2 , points moyens respectifs des sous séries A et B
 b) Placer les points G_1 et G_2 , puis tracer la droite (G_1G_2) dans le repère précédent

Solution



2) Détermination du point $G(x_G, y_G)$ de ce nuage.

$$x_G = \frac{10 + 25 + 40 + 50 + 55 + 60 + 65 + 70 + 75 + 80}{10} = 53$$

$$y_G = \frac{11 + 20 + 35 + 45 + 50 + 53 + 60 + 63 + 73 + 75}{10} = 48,5$$

Donc $G(53; 48,5)$

3) calcul des coordonnées de G_1 et G_2

$$x_{G_1} = \frac{10+25+40+50+55}{5} = 36 \text{ et } y_{G_1} = \frac{11+20+35+45+50}{5} = 32,2$$

$$x_{G_2} = \frac{60+65+70+75+80}{5} = 70 \text{ et } y_{G_2} = \frac{53+60+63+73+75}{5} = 64,8$$

Donc $G_1(36 ; 32,2)$ et $G_2(70; 64,8)$

2.4. AJUSTEMENT

Ajuster un nuage de points c'est déterminer une courbe qui passe par le plus près possible des points du nuage. Lorsque la courbe est une **droite**, on dit que **l'ajustement est linéaire**.

PDF Compressor Free Version
• Ajustement linéaire par la méthode de Mayer

Cette méthode consiste à partager l'ensemble des points à ajuster en deux parties **n'ayant aucun élément en commun** de même effectif dans l'ordre où les points se présentent. Ensuite, on détermine le point moyen G_1 de coordonnées $(x_{G_1}; y_{G_1})$ de la première partie puis le point moyen G_2 de coordonnées $(x_{G_2}; y_{G_2})$ de la deuxième partie.

La droite (G_1G_2) d'équation du type $y = ax + b$ et passant par G est une droite d'ajustement du nuage. Cette droite est appelée **droite de Mayer**.

Exemple 1 : la droite (G_1G_2) de l'exemple précédent représente la droite de Mayer pour la série étudiée.

Exemple 2 : toujours à l'aide de l'exemple précédent :

a) Déterminer une équation cartésienne de la droite (G_1G_2) .

b) À l'aide de la droite (G_1G_2) obtenue, estimer :

La taille d'un individu ayant un poids de 97 grammes.

Le poids d'un individu ayant une taille de 151cm.

Solution :

a) Équation cartésienne de la droite (G_1G_2)

1^{ère} méthode :

Cette équation est sous la forme $y = ax + b$. On a $\begin{cases} 36a + b = 32,2 \\ 70a + b = 64,8 \end{cases}$

La résolution de ce système donne : $a = \frac{16,3}{17}$ et $b = \frac{-39,4}{17}$

Donc $y = \frac{16,3}{17}x - \frac{39,4}{17}$ ou encore $16,3x - 17y - 39,4 = 0$

2^{ème} méthode :

Comme cette droite passe par les points G_1 et G_2 , le coefficient directeur est $a = \frac{y_{G_2} - y_{G_1}}{x_{G_2} - x_{G_1}}$

i.e. $a = \frac{64,8 - 32,2}{70 - 36} = \frac{32,6}{34} = \frac{16,3}{17}$ et $b = y_{G_1} - ax_{G_1} = 32,2 - \frac{16,3}{17} \times 36 = \frac{-39,4}{17}$

i.e. $a = \frac{16,3}{17}$ et $b = \frac{-39,4}{17}$

b) Pour $x = 97$ on a $16,3 \times 97 - 17y = 39,4$ c'est-à-dire $y \approx 90,688$. Donc la taille d'un individu ayant un poids de 97g est **91cm**

Pour $y = 151$, on a $16,3x - 17 \times 151 - 39,4 = 0$, c'est-à-dire $x \approx 159,90$. Donc le poids d'un individu de taille 151cm est **environ 160g**.

Chapitre : Probabilités

PDF Compressor Free Version

Objet pédagogiques :

- ✓ Dénombrements
- ✓ Quelques définitions
- ✓ Evènements
- ✓ Probabilités

I-Dénombrements

- Tirage successifs
 - ❖ Avec remise :

On tire un jeton d'une urne, on note son numéro puis on le remet dans l'urne. On effectue p tirages ($p \geq 1$) dits successifs avec remise. Le nombre de listes ordonnées de p éléments de l'urne est

$$n^p$$

- ❖ Sans remise

On tire un jeton de l'urne contenant n jetons, on note le numéro mais on ne le remet pas dans l'urne. On effectue p tirages. Le nombre d'arrangements de p éléments de l'urne est

$$n \times (n - 1) \times (n - 2) \times \dots \times (n - p + 1)$$

- ❖ Cas particulier : les permutations.

Lorsque $p = n$, tous les jetons de l'urne ont été tirés. Le nombre d'arrangements de l'urne est

$$n \times (n - 1) \times (n - 2) \times \dots \times 1 = n!$$

- Tirage simultanés

On tire simultanément p jetons de l'urne. On obtient un ensemble de p éléments pris parmi n que l'on appelle combinaison. Le nombre de combinaison de p éléments parmi n est noté

$\binom{n}{p}$, on le lit p parmi n et est égale à :

$$\binom{n}{p} = \frac{n \times (n - 1) \times (n - 2) \times \dots \times (n - p + 1)}{p!} = \frac{n!}{p!(n - p)!}$$

- ✚ Exercices d'applications

PDF Compressor Free Version

II – Quelques définitions

La théorie des probabilités est :

- Décrit le comportement de phénomènes dont le résultat est soumis au hasard
- permet de modéliser la fréquence de réalisation d'« événements aléatoires.
- ✓ **Expérience aléatoire** notée \mathcal{E} est une expérience dont le résultat ne peut pas être déterminé avec certitude a priori.
Ex1 : \mathcal{E} : « lancer d'un dé régulier »
- ✓ **Univers de \mathcal{E}** = ensemble des résultats possibles de \mathcal{E} . On le note Ω .
Ex2 : \mathcal{E} : « lancer d'un dé régulier ». $\Omega = \{1, 2, 3, 4, 5, 6\}$.
 \mathcal{E} : « jet de deux pièces de monnaie distinguable ».
 $\Omega = \{(P, P); (P, F); (F, P); (F, F)\}$.
- ✓ **Résultats élémentaire de \mathcal{E}** = résultats possible de \mathcal{E} . C'est un élément de Ω . On le note ω .
Ex2 : \mathcal{E} : « lancer d'un dé régulier ». $\Omega = \{1, 2, 3, 4, 5, 6\}$, $\omega = 2$ est un résultat possible.
 \mathcal{E} : « jet de deux pièces de monnaie distinguable ».
 $\Omega = \{(P, P); (P, F); (F, P); (F, F)\}$, $\omega = (P, P)$ est un résultat possible.

III – Événements

- ✓ **Ensemble $\mathcal{P}(\Omega)$ des parties de Ω** : ensemble constitué de tous les sous-ensembles (partie) de Ω contenant Ω
NB : $\text{Card}(\mathcal{P}(\Omega)) = 2^{\text{Card}(\Omega)}$
Ex0 : si $\Omega = \{a, b, c\}$, $\text{Card}(\Omega) = 3$ $\mathcal{P}(\Omega)$ a 8 éléments.
L'ensemble vide : \emptyset
Les parties à un élts : $\{a\}; \{b\}; \{c\}$
Les parties à deux élts : $\{a, b\}; \{b, c\}; \{a, c\}$
Les parties à trois élts : $\{a, b, c\} = \Omega$
- ✓ **Événement (aléatoire)** = une partie (sous-ensemble) de Ω
= assertion, qui ou non se réaliser suivant l'issue de \mathcal{E} .
Ex0 : les parties à un élts : $\{a\}; \{b\}; \{c\}$.
- ✓ **Réalisation d'un événement** : Soit A un événement de Ω . Soit ω le résultat de l'expérience. **A se réalise $\Leftrightarrow \omega \in A$**
Ex2 : $A =$ « le lancer est impair » = $\{1, 3, 5\}$
 $A =$ « on obtient deux faces » = $\{(P, P)\}$
Si le résultat de \mathcal{E} est $\omega = (F, P)$ alors A ne se réalise pas.
NB : $A = \Omega$ se réalise toujours. On l'appelle événement certain.
 $A = \emptyset$ ne se réalise jamais. On l'appelle événement impossible.

A = { ω } s'appelle événement élémentaire.

PDF Compressor Free Version
Opérations sur les événements

- **Complémentaire de A** : événement constitué des résultats élémentaires de Ω qui ne sont pas dans A. Soit ω le résultat de l'expérience :
 $\bar{A} = \{\omega \in \Omega, \omega \notin A\}$
(\bar{A} se réalise ssi A ne se réalise pas : non A).
- **Réunion de A et B** : événement constitué des résultats élémentaires de Ω qui appartiennent à A ou à B (ou aux deux). Soit ω le résultat de l'expérience :
 $A \cup B = \{\omega \in \Omega, \omega \in A \text{ ou } \omega \in B\}$
($A \cup B$ se réalise ssi l'un au moins se réalise)
- **Intersection de A et B** : événement constitué des résultats élémentaires de Ω qui appartiennent à la fois à A et à B. Soit ω le résultat de l'expérience :
 $A \cap B = \{\omega \in \Omega, \omega \in A \text{ et } \omega \in B\}$
($A \cap B$ se réalise ssi A et B se réalisent simultanément: A et B).
- **Relations particulières** :
 - **Inclusion** : A est inclus dans B ssi tout élément de A appartient à B :
 $A \subset B \Leftrightarrow \omega \in A \rightarrow \omega \in B$. (Si A est réalisé alors B est réalisé).
 - **Disjonction ou incompatibilité** : A et B sont disjoints ssi A et B n'ont pas d'éléments communs :
 $A \text{ et } B \text{ disjoints} \Leftrightarrow (A \cap B = \emptyset)$. A et B disjoints : A et B sont incompatibles.

III- Probabilités

Probabilité = fonction permettant de « mesurer » la chance de réalisation d'un événement de $\mathcal{P}(\Omega)$.

✓ Opérations sur les probabilités

$$P(\Omega) = 1$$

$$P(\emptyset) = 0$$

$$P(\bar{A}) = 1 - P(A)$$

$$\text{Si } A \subset B \text{ alors } P(A) \leq P(B)$$

$$P(A \cup B) = P(A) + P(B) - P(A \cap B)$$

$$0 \leq P(A) \leq 1$$

✓ Univers fini équiprobable

On suppose que l'ensemble des événements possibles est fini ou dénombrable. On note $\Omega = \{\omega_1, \dots, \omega_n\}$ l'ensemble des résultats possibles.

On définit la probabilité p_i de chaque résultat élémentaire ω_i . Lorsqu'il n'y a pas lieu d'attacher aux différents événements élémentaires des probabilités différentes, on a pour tout ω_i , $p_i = p$. On dit que l'univers est **équiprobable**. Lorsque l'univers est fini, de cardinal n

$|\Omega|$, on a $p_i = p = 1/|\Omega|$. On définit alors la probabilité P comme précédemment : soit A un événement quelconque.

$$P(A) = \frac{|A|}{|\Omega|}.$$

Exercices d'applications

Exercice 1

Dans une urne se trouvent 2 boules blanches et 3 boules noires indiscernable. On tire successivement deux boules sans remise. Calculer les probabilités des deux événements suivants :

- 1) « Tirer deux boules de même couleur »
- 2) « Tirer deux boules de couleurs différentes ».

Exercice 2

Une urne contient 7 boules blanches et 3 boules noires. On tire simultanément 4 boules (c'est-à-dire on tire 4 boules sans remise et on ne tient pas compte de l'ordre).

Quelle est la probabilité d'obtenir 2 boules blanches et 2 boules noires ?

Exercice 3

Soient A et B deux événements tel que $P(A) = \frac{1}{5}$ et $P(A \cup B) = \frac{1}{2}$.

- 1) Supposons que A et B soient incompatibles. Calculer $P(B)$.
- 2) Supposons que A et B soient indépendants. Calculer $P(B)$.

CLASSE : Terminale A₄
PDF Compressor Free Version
FICHE DE TRAVAUX DIRIGES N°2
Thème : EQUATIONS, INEQUATIONS ET SYSTEMES

I. Problèmes de premiers degrés

Exercice 1

Résoudre dans \mathbb{R} les équations et inéquations suivantes :

$$1) \frac{x+1}{x-1} = \frac{1}{2} \qquad 2) \frac{3x+8}{3} + \frac{2x+5}{4} = x+3(2x-5) \qquad 3) (2x+1)(2x-5)=0$$

$$3) \frac{x+1}{x-1} < \frac{1}{2} \qquad 5) (2x+1)(2x-5) \geq 0$$

Exercice 2

1) Résoudre dans \mathbb{R}^2 le système :

$$(S): \begin{cases} 5x - 2y = 14 \\ -3x + 5y = 3 \end{cases}$$

2) En déduire les solutions des systèmes :

$$(S_1): \begin{cases} 5x^2 - 2y^2 = 14 \\ -3x^2 + 5y^2 = 3 \end{cases} \qquad (S_2): \begin{cases} 5(x-3) - 2(y-1) = 14 \\ -3(x-3) + 5(y-1) = 3 \end{cases}$$

$$(S_3): \begin{cases} \frac{5}{2x+1} - \frac{2}{3y-1} = 14 \\ \frac{-3}{2x+1} + \frac{5}{3y-1} = 3 \end{cases} \qquad (S_4): \begin{cases} 5\sqrt{x+1} - 2\sqrt{1-x} = 14 \\ -3\sqrt{x+1} + 5\sqrt{1-x} = 3 \end{cases}$$

Exercice 3

A la fin d'une partie de chasse, MOUSSA s'exclame : Je n'ai tué que des perdrix et des lièvres et j'ai en tout 10 têtes et 26 pattes. Déterminer le nombre de perdrix et le nombre de lièvres tués par MOUSSA.

Exercice 4

Résoudre dans \mathbb{R}^3 le système :

$$\begin{cases} 3x - 4y - 6z = 0 \\ 9x + 3y - 4z = 18 \\ -18x + 9y + 6z = 10 \end{cases}$$

1) En déduire la solution du système

$$(S) : \begin{cases} 3\sqrt{x} - \frac{4}{y+1} - 6(z+2) = 0 \\ 9\sqrt{x} + \frac{3}{y+1} - 4(z+2) = 18 \\ -18\sqrt{x} + \frac{9}{y+1} + 6(z+2) = -10 \end{cases}$$

Exercice 5

PDF Compressor Free Version

1) Résoudre le système (S) :

$$\begin{cases} 5x + 4y + 2z = 550 \\ x + 3y + z = 270 \\ x + y + z = 140 \end{cases}$$

- 2) Pour une fabrication, une entreprise doit utiliser x pièces de type A, y pièces de type B et z pièces de type C. Le tableau suivant donne la masse et le coût de chacune des pièces

Pièce	A	B	C
Masse (en g)	2,5	2	1
Coût (en F)	1	1,5	0,5

a) Montrer que x , y , z et vérifient le système (S), sachant qu'on a fabriqué au total 140 pièces, pour une masse totale de 275 grammes et pour un coût total de 135 F.

b) En déduire le nombre de pièces de chaque type utilisées par l'entreprise.

Exercice 6

- 1) Résoudre dans \mathbb{R}^3 le système

$$\begin{cases} x + y + z = 100 \\ 15x + 9y + z = 300 \\ x - 3y = 0 \end{cases}$$

2) Une usine fabrique trois types de produits différents A, B et C. La fabrication d'une unité de produit nécessite 5 heures pour A, 3 heures pour B et un tiers d'heure pour C.

L'usine fabrique 100 unités de ce produit pendant 100 heures de travail. Le nombre d'unité du produit B étant le tiers du nombre d'unité de A.

Parmi ces 100 unités de produit, combien d'unités de chaque types de produits l'usine fabrique t-elle?

II. Problèmes de second degré

Exercice 1

Résoudre dans \mathbb{R} les équations et inéquations suivantes :

a) $-3x^2 + 4x - 5 > 0$

b) $-25x^2 - 15x + 1 \geq 0$

c) $-121x^2 + 330x + 225 \leq 0$

d) $x^2 - x - 2 = 0$

e) $x^2 - 4 = 0$

f) $x^2 + 5 = 0$

g) $x^4 - x^2 + 12 = 0$

h) $x^4 - x^2 + 12 < 0$

Exercice 2

1) Résoudre le système $\begin{cases} x + y = 50 \\ xy = 600 \end{cases}$

2) Un champ rectangulaire a une aire de 600 m² et pour périmètre 100m. Quelles sont les dimensions de ce champ?

Exercice 3**PDF Compressor Free Version**

1) Résoudre dans \mathbb{R} l'inéquation $\frac{1}{x} \leq \frac{x}{3x+4}$.

2) Résoudre dans \mathbb{R} l'équation

$$(E): x^2 - 100x - 120000 = 0$$

3) M. Kopa a décidé d'investir 3600F dans les actions d'une entreprise. Au moment d'acheter celle-ci, il s'aperçoit que les actions ont baissé de 100F et qu'il peut acheter 3 de plus.

a) Soit x le prix d'une action ; montrer que x est solution de l'équation (E) .

b) En déduire alors le prix d'une action.

Exercice 4

On considère le polynôme de la variable réelle x donné par $p(x) = x^3 + 2x^2 - 5x - 6$.

1) Montrer que -1 est racine de P

2) Déterminer deux réels b et c tels que pour tout réel x , $p(x) = (x + 1)(x^2 + bx + c)$

3) Donner toutes les racines du polynôme P

Exercice 5

Un article qui coûtait 60 000 F a subi une augmentation de $x\%$, puis une baisse de $x\%$ sur son nouveau prix.

Montrer que le prix définitif est égal à $60\,000 - 6x^2$. Déterminer x sachant que l'article est vendu en définitive à 58 650 F.